

# *Mécanique des Milieux Continus*

**Abdellatif MEGNOUNIF**

**Chap. 4**

## **Déformations et Taux de déformations**

**COURS 4 Mercredi 09.04.2008**

© *Abdellatif MEGNOUNIF FSI-Tlemcen*

# 1. Description des mouvements d'un M.C

La cinématique des **particules** permet de définir le chemin d'une particule par un vecteur en fonction du temps:

$$\mathbf{r} = \mathbf{r}(t) \quad \text{Ou bien} \quad \mathbf{r}(t) = x(t)\mathbf{e}_1 + y(t)\mathbf{e}_2 + z(t)\mathbf{e}_3 \quad (4.1)$$

S'il ya « N » particules, chaque particule aura son chemin, et on a:

$$\mathbf{r}_n = \mathbf{r}_n(t), \quad n=1,2\dots N$$

Pour un **milieu continu**, c'est un peu difficile (infinité de particules). Alors au lieu de les identifier par un nombre on les identifie par leur **position** qu'elles occupent au **temps de référence** «  $t_0$  ».

Ex: si une particule d'un milieu continu était à la position  $(X_1, X_2, X_3)$  au temps de référence «  $t_0$  » alors on utilise les coordonnées  $(X_1, X_2, X_3)$  pour identifier cette particule.

## Description des mouvements d'un M.C (Suite)

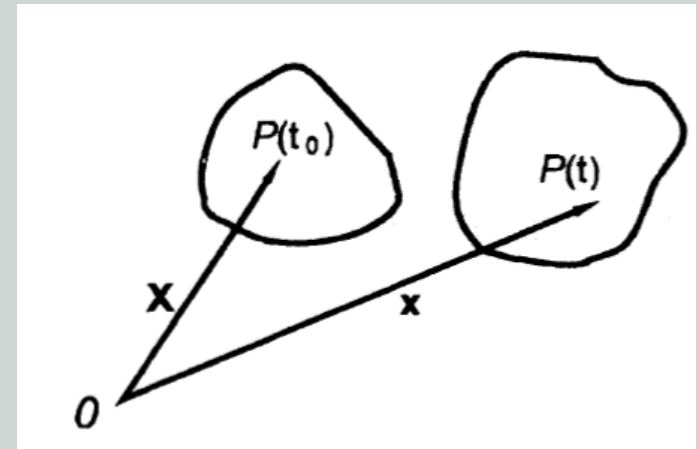
En général, les chemins de chaque particule dans un milieu continu peuvent être décrits par l'équation du vecteur:

$$\mathbf{x} = \mathbf{x}(\mathbf{X}, t) \quad \text{Avec:} \quad \mathbf{x}(\mathbf{X}, t_0) = \mathbf{X} \quad (4.2)$$

Où:

$$\mathbf{x} = x_1 \mathbf{e}_1 + x_2 \mathbf{e}_2 + x_3 \mathbf{e}_3 \quad \text{Position de « P » à « t »}$$

$$\text{et} \quad \mathbf{X} = X_1 \mathbf{e}_1 + X_2 \mathbf{e}_2 + X_3 \mathbf{e}_3$$



En composantes:

$$\begin{aligned} x_1 &= x_1(X_1, X_2, X_3, t) \\ x_2 &= x_2(X_1, X_2, X_3, t) \\ x_3 &= x_3(X_1, X_2, X_3, t) \end{aligned} \quad (4.3)$$

Ou bien:

$$x_i = x_i(X_1, X_2, X_3, t) \quad \text{Avec:} \quad x_i(X_1, X_2, X_3, t_0) = X_i \quad (4.4)$$

$X_1, X_2$  et  $X_3$  sont les **coordonnées matérielles**.

(4.2), (4.3) et (4.4) équations **cinématiques** du mvt. © Abdellatif MEGNOUNIF FSI-Tlemcen

## Description des mouvements d'un M.C (Suite)

### Exemple

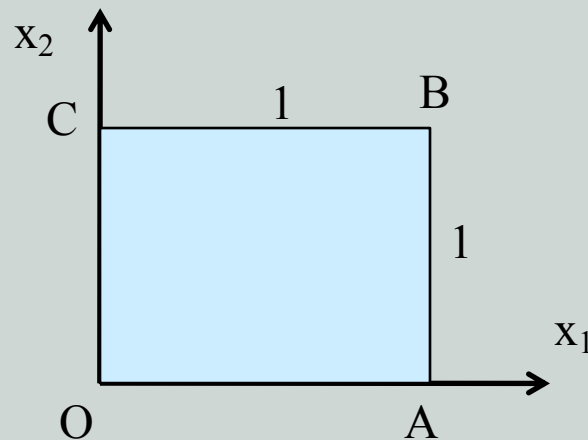
Considérons le mouvement:

$$\mathbf{x} = \mathbf{X} + ktX_2 \mathbf{e}_1$$

$\mathbf{x} = x_1\mathbf{e}_1 + x_2\mathbf{e}_2 + x_3\mathbf{e}_3$ ; vecteur position au temps « t »

$\mathbf{X} = X_1\mathbf{e}_1 + X_2\mathbf{e}_2 + X_3\mathbf{e}_3$ ; Vecteur position au temps  $t=0$ .

Définir la configuration au temps « t » d'un corps qui au temps  $t=0$  a une forme cubique de cotés unités.



## Description des mouvements d'un M.C (Suite)

### Exemple

Après déformation.

Les composantes du vecteur « x » sont

$$x_1 = X_1 + ktX_2$$

$$x_2 = X_2$$

$$x_3 = X_3$$

À «t=0 », la particule est en « O » (0,0,0).

D'où:  $X_1=0$ ,  $X_2=0$  et  $X_3=0$

En remplaçant, on aura au temps « t »  $x_1=0$ ,  $x_2=0$  et  $x_3=0$ .

Pour le point « A »:  $(X_1, X_2, X_3) = (1, 0, 0)$  d'où  $(x_1, x_2, x_3) = (1, 0, 0)$ .

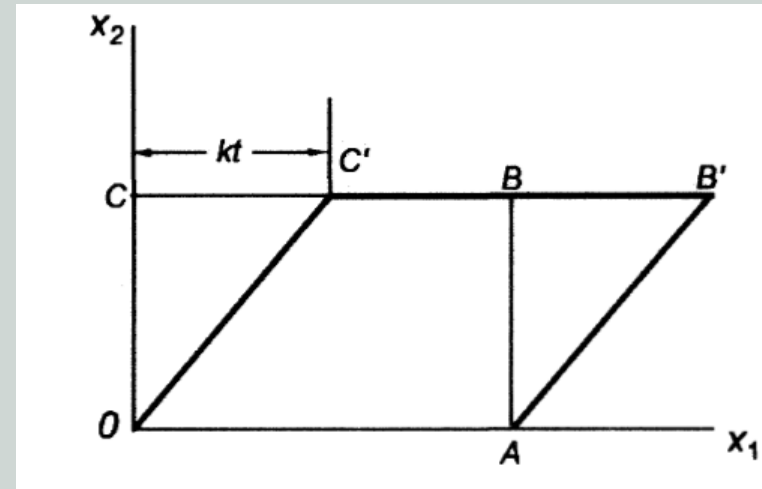
Le ligne OA ne bouge pas.

Un point sur la ligne CB a pour coordonnées  $(X_1, X_2, X_3) = (X_1, 1, 0)$  à t=0 et à « t », il aura  $(x_1, x_2, x_3) = (X_1 + kt, 1, 0)$ .

Donc la ligne a bougé d'une distance de « kt » suivant  $x_1$ .

De même OC:  $(X_1, X_2, X_3) = (0, X_2, 0)$  et  $(x_1, x_2, x_3) = (ktX_2, X_2, 0)$

D'où la figure obtenu. **Glissement simple.**



## 2. Descriptions matérielle et spatiale du mouvement

Un MC en mouvement, sa température  $\Theta$ , sa vitesse  $\mathbf{v}$ , son tenseur  $\mathbf{T}$  peuvent changer dans le temps. Ces changements sont décrits de 02 manières:

### 1. Description Lagrangienne. (ou matérielle)

En suivant la particule. Dans ce cas les variables sont fonctions des coordonnées matérielles  $(X_1, X_2, X_3)$  et du temps « t ».

$$\begin{aligned}\Theta &= \hat{\Theta}(X_1, X_2, X_3, t) \\ \mathbf{v} &= \hat{\mathbf{v}}(X_1, X_2, X_3, t) \\ \mathbf{T} &= \hat{\mathbf{T}}(X_1, X_2, X_3, t)\end{aligned}\tag{4.5}$$

### 2. Description Eulerienne. (ou spatiale)

En restant dans une position fixe et on observe. D'où

$$\begin{aligned}\Theta &= \tilde{\Theta}(x_1, x_2, x_3, t) \\ \mathbf{v} &= \tilde{\mathbf{v}}(x_1, x_2, x_3, t) \\ \mathbf{T} &= \tilde{\mathbf{T}}(x_1, x_2, x_3, t)\end{aligned}\tag{4.6}$$

## Descriptions matérielle et spatiale du mouvement (Suite)

**Exemple.**

**Soit le mouvement d'un MC:**

$$x_1 = X_1 + kt X_2, \quad x_2 = X_2, \quad x_3 = X_3$$

**Et soit le champ de température dans la description spatiale donné par:**

$$\Theta = x_1 + x_2$$

- a) Calculer la température dans la description matérielle.**
- b) Déterminer la vitesse dans les 02 descriptions.**
- c) Déterminer le taux de température dans les 02 descriptions.**

## Descriptions matérielle et spatiale du mouvement (Suite)

### Solution

a) Température en Lagrangienne.

$$x_1 = X_1 + kt X_2, \quad x_2 = X_2, \quad x_3 = X_3$$

Et  $\Theta = x_1 + x_2$  D'où  $\Theta = X_1 + (kt+1)X_2$ .

b) Vitesse:

en Lagrangienne:

$$v_i = \left( \frac{\partial x_i}{\partial t} \right)_{X_i \text{-fixe}}$$

D'où

$$v_1 = kX_2, \quad v_2 = v_3 = 0$$

en Eulerienne:

$$v_1 = kx_2, \quad v_2 = v_3 = 0$$

c) Taux de température

$$\left( \frac{\partial \Theta}{\partial t} \right)_{X_i \text{-fixe}} = k X_2 = k x_2$$

Bien que le champ de température ne dépend du temps mais chaque particule subira un changement puisque ça suit la position spatiale.



# 3. Notions de dérivées du point matériel

La dérivée par rapport au temps peut être exprimée dans les 02 descriptions:

## a) En Lagrangienne.

On a

$$\Theta = \hat{\Theta}(X_1, X_2, X_3, t) \quad \text{D'où} \quad \frac{D\Theta}{Dt} = \left( \frac{\partial \hat{\Theta}}{\partial t} \right)_{X_i - \text{fixes}} \quad (4.7)$$

## b) En Eulerienne.

On a

$$\Theta = \tilde{\Theta}(x_1, x_2, x_3, t) \quad \text{Or} \quad x_i = \hat{x}_i(X_1, X_2, X_3, t).$$

D'où

$$\left( \frac{D\Theta}{Dt} \right) = \left( \frac{\partial \tilde{\Theta}}{\partial t} \right)_{x_i - \text{fixes}} = \frac{\partial \tilde{\Theta}}{\partial x_1} \frac{\partial x_1}{\partial t} + \frac{\partial \tilde{\Theta}}{\partial x_2} \frac{\partial x_2}{\partial t} + \frac{\partial \tilde{\Theta}}{\partial x_3} \frac{\partial x_3}{\partial t} + \left( \frac{\partial \tilde{\Theta}}{\partial t} \right)_{x_i - \text{fixes}} \quad (4.8)$$

En coordonnées cartésiennes  $\frac{\partial x_1}{\partial t}, \frac{\partial x_2}{\partial t}, \frac{\partial x_3}{\partial t}$

Représentent les composantes de vitesses  $v_i$  de la particule  $X_i$ .

$$\text{D'où} \quad \frac{D\Theta}{Dt} = \frac{\partial \Theta}{\partial t} + v_1 \frac{\partial \Theta}{\partial x_1} + v_2 \frac{\partial \Theta}{\partial x_2} + v_3 \frac{\partial \Theta}{\partial x_3} \quad \frac{D\Theta}{Dt} = \frac{\partial \Theta}{\partial t} + \mathbf{v} \cdot \nabla \Theta \quad (4.9)$$

## Notions de dérivées du point matériel (Suite)

L'équation

$$\frac{D\Theta}{Dt} = \frac{\partial\Theta}{\partial t} + \mathbf{v} \cdot \nabla\Theta$$

est valable pour tous les systèmes de coordonnées, il suffit juste d'exprimer le gradient dans le système approprié.

### a) En coordonnées cylindriques.

$$\mathbf{v} = v_r \mathbf{e}_r + v_\theta \mathbf{e}_\theta + v_z \mathbf{e}_z$$

D'où

$$\nabla\Theta = \frac{\partial\Theta}{\partial r} \mathbf{e}_r + \frac{1}{r} \frac{\partial\Theta}{\partial\theta} \mathbf{e}_\theta + \frac{\partial\Theta}{\partial z} \mathbf{e}_z$$

alors

$$\frac{D\Theta}{Dt} = \frac{\partial\Theta}{\partial t} + v_r \frac{\partial\Theta}{\partial r} + \frac{v_\theta}{r} \frac{\partial\Theta}{\partial\theta} + v_z \frac{\partial\Theta}{\partial z} \quad (4.10)$$

### b) En coordonnées sphériques.

$$\mathbf{v} = v_r \mathbf{e}_r + v_\theta \mathbf{e}_\theta + v_\phi \mathbf{e}_\phi$$

D'où

$$(\nabla\Theta)_r = \frac{\partial\Theta}{\partial r} \quad (\nabla\Theta)_\theta = \frac{1}{r} \frac{\partial\Theta}{\partial\theta} \quad (\nabla\Theta)_\phi = \frac{1}{r \sin\theta} \frac{\partial\Theta}{\partial\phi}$$

alors

$$\frac{D\Theta}{Dt} = \frac{\partial\Theta}{\partial t} + v_r \frac{\partial\Theta}{\partial r} + \frac{v_\theta}{r} \frac{\partial\Theta}{\partial\theta} + \frac{v_\phi}{r \sin\theta} \frac{\partial\Theta}{\partial\phi} \quad (4.11)$$

# 4. Accélération d'une particule d'un MC

C'est le taux de changement de la vitesse d'une particule.

$$\mathbf{a} = \left( \frac{\partial \mathbf{v}}{\partial t} \right)_{X_i - \text{fixe}} \equiv \frac{D\mathbf{v}}{Dt} \quad (4.12)$$

## a) En Lagrangienne.

Si la vitesse est connue en Lagrangienne, il suffit de la dériver par rapport au temps.

## b) En Eulerienne.

En coordonnées cartésiennes.

$$\mathbf{v} = v_1(x_1, x_2, x_3, t) \mathbf{e}_1 + v_2(x_1, x_2, x_3, t) \mathbf{e}_2 + v_3(x_1, x_2, x_3, t) \mathbf{e}_3 \quad (4.13)$$

D'où

$$\frac{D\mathbf{v}}{Dt} = \frac{Dv_1}{Dt} \mathbf{e}_1 + \frac{Dv_2}{Dt} \mathbf{e}_2 + \frac{Dv_3}{Dt} \mathbf{e}_3 \quad (4.14)$$

avec

$$\frac{Dv_i}{Dt} = \frac{\partial v_i}{\partial t} + v_1 \frac{\partial v_i}{\partial x_1} + v_2 \frac{\partial v_i}{\partial x_2} + v_3 \frac{\partial v_i}{\partial x_3} \quad \text{i.e.} \quad a_i = \frac{\partial v_i}{\partial t} + v_j \frac{\partial v_i}{\partial x_j} \quad (4.15)$$

$$\mathbf{a} = \frac{\partial \mathbf{v}}{\partial t} + (\nabla \mathbf{v}) \mathbf{v} \quad \mathbf{a} = \frac{\partial \mathbf{v}}{\partial t} + \mathbf{v} \cdot \tilde{\nabla} \mathbf{v} \quad (4.16) \quad \text{avec} \quad \tilde{\nabla} = \mathbf{e}_m \frac{\partial}{\partial x_m}$$

## Accélération d'une particule d'un MC (Suite)

### b) En Eulerienne.

En coordonnées Cylindriques.

$$\mathbf{v} = v_r(r, \theta, z)\mathbf{e}_r + v_\theta(r, \theta, z)\mathbf{e}_\theta + v_z(r, \theta, z)\mathbf{e}_z$$

$$a_r = \frac{\partial v_r}{\partial t} + v_r \frac{\partial v_r}{\partial r} + \frac{v_\theta}{r} \left( \frac{\partial v_r}{\partial \theta} - v_\theta \right) + v_z \frac{\partial v_r}{\partial z}$$

$$a_\theta = \frac{\partial v_\theta}{\partial t} + v_r \frac{\partial v_\theta}{\partial r} + \frac{v_\theta}{r} \left( \frac{\partial v_\theta}{\partial \theta} + v_r \right) + v_z \frac{\partial v_\theta}{\partial z}$$

(4.17)

$$a_z = \frac{\partial v_z}{\partial t} + v_r \frac{\partial v_z}{\partial r} + \frac{v_\theta}{r} \frac{\partial v_z}{\partial \theta} + v_z \frac{\partial v_z}{\partial z}$$

En coordonnées Sphériques.

$$\mathbf{v} = v_r(r, \theta, \phi)\mathbf{e}_r + v_\theta(r, \theta, \phi)\mathbf{e}_\theta + v_\phi(r, \theta, \phi)\mathbf{e}_\phi$$

$$a_r = \frac{\partial v_r}{\partial t} + v_r \frac{\partial v_r}{\partial r} + \frac{v_\theta}{r} \left( \frac{\partial v_r}{\partial \theta} - v_\theta \right) + \frac{v_\phi}{r \sin \theta} \left( \frac{\partial v_r}{\partial \phi} - v_\phi \sin \theta \right)$$

$$a_\theta = \frac{\partial v_\theta}{\partial t} + v_r \frac{\partial v_\theta}{\partial r} + \frac{v_\theta}{r} \left( \frac{\partial v_\theta}{\partial \theta} + v_r \right) + \frac{v_\phi}{r \sin \theta} \left( \frac{\partial v_\theta}{\partial \phi} - v_\phi \cos \theta \right)$$

(4.18)

$$a_\phi = \frac{\partial v_\phi}{\partial t} + v_r \frac{\partial v_\phi}{\partial r} + \frac{v_\theta}{r} \frac{\partial v_\phi}{\partial \theta} + \frac{v_\phi}{r \sin \theta} \left( \frac{\partial v_\phi}{\partial \phi} + v_r \sin \theta + v_\theta \cos \theta \right)$$

# 5. Champ de déplacement

Le déplacement d'une particule d'une position P à une position Q est le vecteur PQ.

D'où le vecteur déplacement de la position de référence à la position au temps « t » est donné par:

$$\mathbf{u} = \mathbf{x}(\mathbf{X}, t) - \mathbf{X} \quad (4.19)$$

## exemple

La configuration déformée d'un MC est donnée par

$$x_1 = \frac{1}{2}X_1, \quad x_2 = X_2, \quad x_3 = X_3$$

Quel est le vecteur déplacement?

On a  $\mathbf{u} = \mathbf{x}(\mathbf{X}, t) - \mathbf{X}$

D'où  $u_1 = \frac{1}{2}X_1 - X_1 = -\frac{1}{2}X_1, \quad u_2 = X_2 - X_2 = 0, \quad u_3 = X_3 - X_3 = 0$

État uni axial de contraction

# 6. Cinématique de mvt de corps rigide

## a) Translation de corps rigide.

L'équation cinématique est définie par:

$$\mathbf{x} = \mathbf{X} + \mathbf{c}(t) \quad (4.20)$$

Où  $\mathbf{c}(0) = \mathbf{0}$

Le déplacement sera

$$\mathbf{u} = \mathbf{x} - \mathbf{X} = \mathbf{c}(t) \quad \text{Indépendant de } \mathbf{X}.$$

i.e. Chaque point matériel se déplace de la même manière avec la même magnitude et la même direction au temps « t ».

## b) Rotation de corps rigide autour d'un point fixe.

L'équation cinématique est définie par:

$$\mathbf{x} - \mathbf{b} = \mathbf{R}(t)(\mathbf{X} - \mathbf{b}) \quad (4.21)$$

Où  $\mathbf{R}(t)$  est un tenseur orthogonal propre (tenseur de rotation) (chap 2).

Avec  $\mathbf{R}(0) = \mathbf{I}$ .

$\mathbf{b}$ : est un vecteur constant

La rotation se fait autour du point fixe  $\mathbf{x} = \mathbf{b}$ .

## Cinématique de mvt de corps rigide (suite)

### c) Mvt général de corps rigide.

L'équation cinématique est définie par:

$$\mathbf{x} = \mathbf{R}(t)(\mathbf{X} - \mathbf{b}) + \mathbf{c}(t) \quad (4.22)$$

Où  $\mathbf{R}(t)$  est un tenseur de rotation avec  $\mathbf{R}(0) = \mathbf{I}$  et  $\mathbf{c}(t)$  est un vecteur avec  $\mathbf{c}(0) = \mathbf{b}$ .

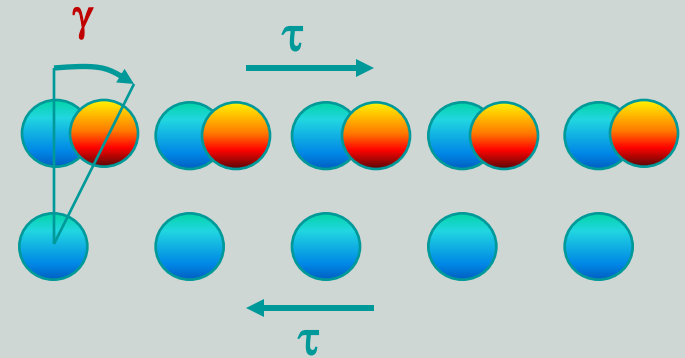
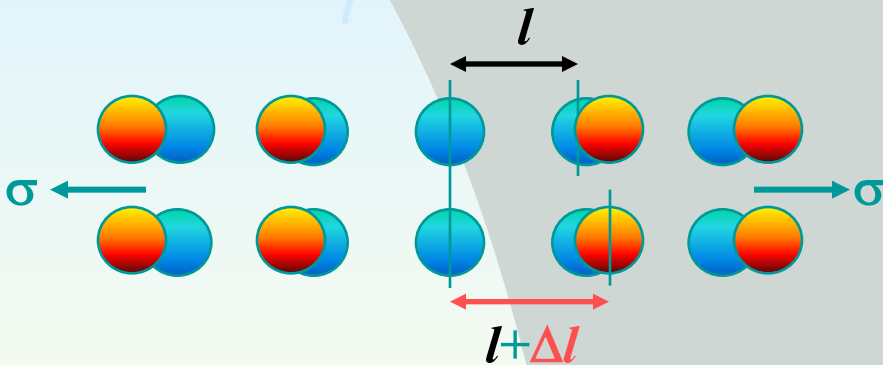
# 7. Définition de la déformation

## Robert Hooke

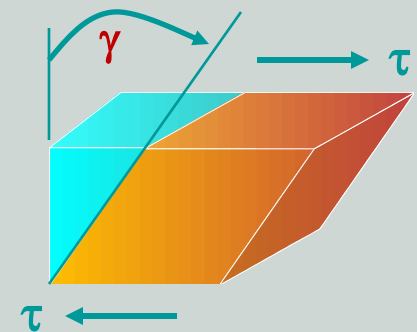
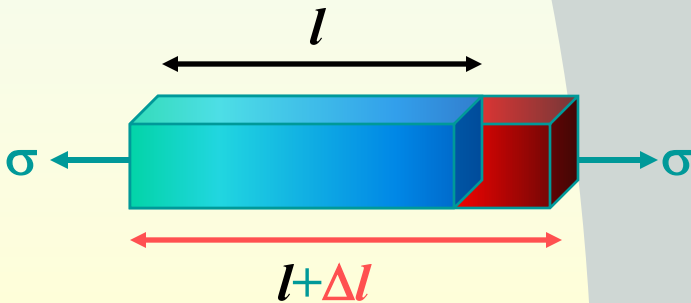
Pour supporter un chargement un milieu matériel doit se déformer

Extension  $\frac{\Delta l}{l}$

Glissement  $\gamma$



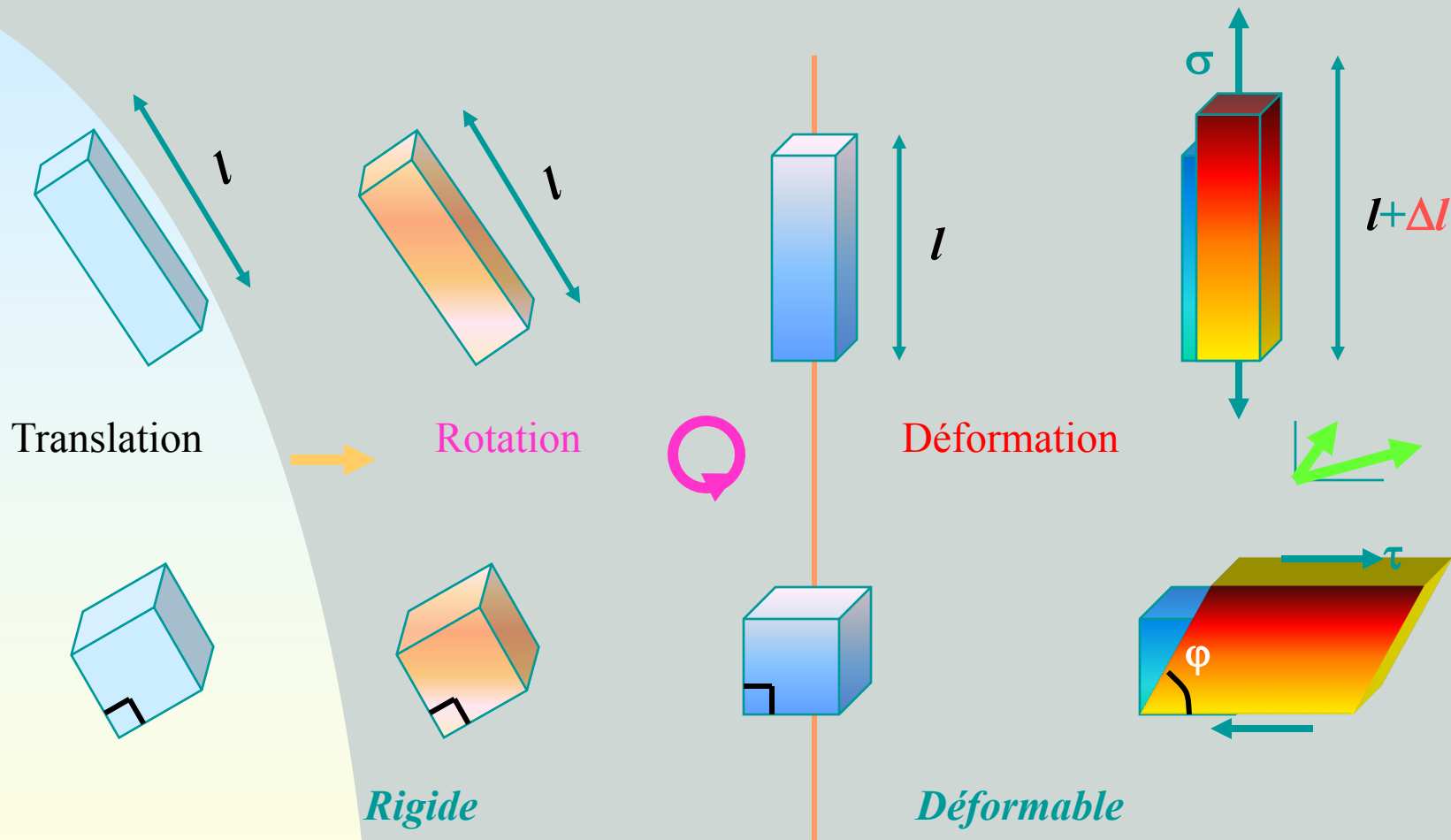
A l'échelle microscopique



A l'échelle macroscopique



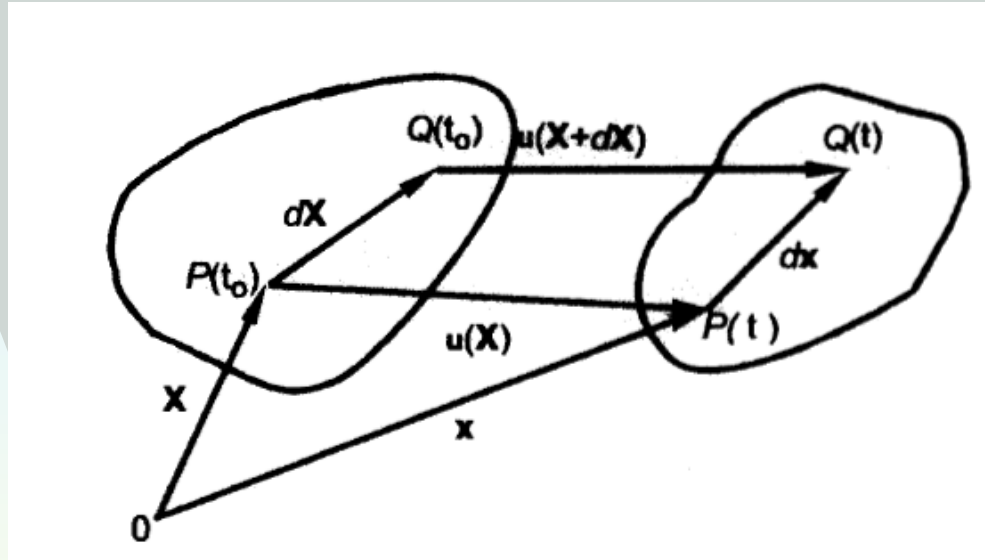




Seule la Déformation modifie les Longueurs et les Angles

# 8. Déformations infinitésimales

Soit le corps qui passe d'une configuration de référence «  $t_0$  » à une autre configuration «  $t$  ».



Un point matériel «  $P$  » se déplace de «  $u$  », d'où

$$\mathbf{x} = \mathbf{X} + \mathbf{u}(\mathbf{X}, t)$$

Un point matériel «  $Q$  » à  $\mathbf{X} + d\mathbf{X}$  arrive à  $\mathbf{x} + d\mathbf{x}$ , soit

$$\mathbf{x} + d\mathbf{x} = \mathbf{X} + d\mathbf{X} + \mathbf{u}(\mathbf{X} + d\mathbf{X}, t)$$

Par différence

## Déformations infinitésimales (suite)

Par différence

$$d\mathbf{x} = d\mathbf{X} + \mathbf{u}(\mathbf{X} + d\mathbf{X}, t) - \mathbf{u}(\mathbf{X}, t)$$

Or on sait que (chap 2, (2.58))

$$d\mathbf{v} = \mathbf{v}(\mathbf{r} + d\mathbf{r}) - \mathbf{v}(\mathbf{r}) \equiv (\nabla \mathbf{v}) d\mathbf{r}$$

D'où

$$d\mathbf{x} = d\mathbf{X} + (\nabla \mathbf{u}) d\mathbf{X} \quad (4.23)$$

Où  $\nabla \mathbf{u}$  est le gradient de déplacement (tenseur de 2<sup>ème</sup> ordre). En coordonnées cartésiennes avec  $\mathbf{X} = X_i \mathbf{e}_i$  et  $\mathbf{u} = u_i \mathbf{e}_i$ , on aura:

$$[\nabla \mathbf{u}] = \begin{bmatrix} \frac{\partial u_1}{\partial X_1} & \frac{\partial u_1}{\partial X_2} & \frac{\partial u_1}{\partial X_3} \\ \frac{\partial u_2}{\partial X_1} & \frac{\partial u_2}{\partial X_2} & \frac{\partial u_2}{\partial X_3} \\ \frac{\partial u_3}{\partial X_1} & \frac{\partial u_3}{\partial X_2} & \frac{\partial u_3}{\partial X_3} \end{bmatrix} \quad (4.24)$$

## Déformations infinitésimales (suite)

(4.23) peut s'écrire

$$d\mathbf{x} = \mathbf{F}d\mathbf{X} \quad (4.25)$$

En posant:

$$\mathbf{F} = \mathbf{I} + \nabla\mathbf{u} \quad (4.26)$$

On peut définir la relation entre la longueur ( $ds$ ) de  $d\mathbf{x}$  et ( $dS$ ) de  $d\mathbf{X}$ . On a:

$$d\mathbf{x} \cdot d\mathbf{x} = \mathbf{F}d\mathbf{X} \cdot \mathbf{F}d\mathbf{X} = d\mathbf{X} \cdot \mathbf{F}^T \mathbf{F} d\mathbf{X}$$

i.e.

$$(ds)^2 = d\mathbf{X} \cdot \mathbf{F}^T \mathbf{F} d\mathbf{X} \quad (4.27)$$

Rem: Si  $\mathbf{F}$  est un tenseur orthogonal ( $\mathbf{F}^T \mathbf{F} = \mathbf{I}$ ) alors  $(ds)^2 = (dS)^2$ ,  
 $\mathbf{F}$  correspond au mvt de corps rigide.

$\mathbf{F}$ : quelconque. D'où

$$\mathbf{F}^T \mathbf{F} = (\mathbf{I} + \nabla\mathbf{u})^T (\mathbf{I} + \nabla\mathbf{u}) = \mathbf{I} + \nabla\mathbf{u} + (\nabla\mathbf{u})^T + (\nabla\mathbf{u})^T \nabla\mathbf{u} \quad (4.28)$$

## Déformations infinitésimales (suite)

Si on suppose que les composantes de déplacement et ses dérivées sont petites, alors (4.25)

$$(\nabla \mathbf{u})^T \nabla \mathbf{u} \quad \text{Est négligée}$$

Alors:

$$\mathbf{F}^T \mathbf{F} \approx \mathbf{I} + \nabla \mathbf{u} + (\nabla \mathbf{u})^T \equiv \mathbf{I} + 2\mathbf{E} \quad (4.29)$$

Avec:

$$\mathbf{E} = \frac{1}{2} [(\nabla \mathbf{u})^T + \nabla \mathbf{u}] \quad \text{Part Symétrique de } \nabla \mathbf{u} \quad (4.30)$$

De l'équation (4.27), on remarque que « E » caractérise un changement de longueur du MC qui subit une déformation petite.

« E » est appelé tenseur de déformation infinitésimale

Le tenseur est symétrique

## Déformations infinitésimales (suite)

Si on suppose 02 points matériels  $d\mathbf{X}^{(1)}$  et  $d\mathbf{X}^{(2)}$  qui deviennent après mouvement  $d\mathbf{x}^{(1)}$  et  $d\mathbf{x}^{(2)}$  au temps « t » avec

$d\mathbf{x}^{(1)} = \mathbf{F} d\mathbf{X}^{(1)}$  et  $d\mathbf{x}^{(2)} = \mathbf{F} d\mathbf{X}^{(2)}$ , on aura:

$$d\mathbf{x}^{(1)} \cdot d\mathbf{x}^{(2)} = d\mathbf{X}^{(1)} \cdot \mathbf{F}^T \mathbf{F} d\mathbf{X}^{(2)} \quad (4.31)$$

En remplaçant (4.29) on obtient

$$d\mathbf{x}^{(1)} \cdot d\mathbf{x}^{(2)} = d\mathbf{X}^{(1)} \cdot d\mathbf{X}^{(2)} + 2d\mathbf{X}^{(1)} \cdot \mathbf{E} d\mathbf{X}^{(2)} \quad (4.32)$$

Cette équation sera utilisée pour définir toutes les composantes de déformations

## Déformations infinitésimales (suite)

### 8.1 Coordonnées rectangulaires.

On a:

$$E_{ij} = \frac{1}{2} \left( \frac{\partial u_i}{\partial X_j} + \frac{\partial u_j}{\partial X_i} \right) \quad (4.33)$$

Ou bien

$$[\mathbf{E}] = \begin{bmatrix} \frac{\partial u_1}{\partial X_1} & \frac{1}{2} \left( \frac{\partial u_1}{\partial X_2} + \frac{\partial u_2}{\partial X_1} \right) & \frac{1}{2} \left( \frac{\partial u_1}{\partial X_3} + \frac{\partial u_3}{\partial X_1} \right) \\ \frac{1}{2} \left( \frac{\partial u_1}{\partial X_2} + \frac{\partial u_2}{\partial X_1} \right) & \frac{\partial u_2}{\partial X_2} & \frac{1}{2} \left( \frac{\partial u_2}{\partial X_3} + \frac{\partial u_3}{\partial X_2} \right) \\ \frac{1}{2} \left( \frac{\partial u_1}{\partial X_3} + \frac{\partial u_3}{\partial X_1} \right) & \frac{1}{2} \left( \frac{\partial u_2}{\partial X_3} + \frac{\partial u_3}{\partial X_2} \right) & \frac{\partial u_3}{\partial X_3} \end{bmatrix} \quad (4.34)$$

## Déformations infinitésimales (suite)

### 8.2 Coordonnées cylindriques.

On a:

$$[\mathbf{E}] = \begin{bmatrix} \frac{\partial u_r}{\partial r} & \frac{1}{2} \left[ \frac{1}{r} \frac{\partial u_r}{\partial \theta} + \frac{\partial u_\theta}{\partial r} - \frac{u_\theta}{r} \right] & \frac{1}{2} \left[ \frac{\partial u_r}{\partial z} + \frac{\partial u_z}{\partial r} \right] \\ \frac{1}{2} \left[ \frac{1}{r} \frac{\partial u_r}{\partial \theta} + \frac{\partial u_\theta}{\partial r} - \frac{u_\theta}{r} \right] & \frac{1}{r} \left( \frac{\partial u_\theta}{\partial \theta} + u_r \right) & \frac{1}{2} \left[ \frac{\partial u_\theta}{\partial z} + \frac{1}{r} \frac{\partial u_z}{\partial \theta} \right] \\ \frac{1}{2} \left[ \frac{\partial u_r}{\partial z} + \frac{\partial u_z}{\partial r} \right] & \frac{1}{2} \left[ \frac{\partial u_\theta}{\partial z} + \frac{1}{r} \frac{\partial u_z}{\partial \theta} \right] & \frac{\partial u_z}{\partial z} \end{bmatrix} \quad (4.35)$$

### 8.3 Coordonnées sphériques.

On a:

$$[\mathbf{E}] = \begin{bmatrix} \frac{\partial u_r}{\partial r} & \frac{1}{2} \left[ \frac{1}{r} \frac{\partial u_r}{\partial \theta} + \frac{\partial u_\theta}{\partial r} - \frac{u_\theta}{r} \right] & \frac{1}{2} \left[ \frac{1}{r \sin \theta} \frac{\partial u_r}{\partial \phi} + \frac{\partial u_\phi}{\partial r} - \frac{u_\phi}{r} \right] \\ \frac{1}{2} \left[ \frac{1}{r} \frac{\partial u_r}{\partial \theta} + \frac{\partial u_\theta}{\partial r} - \frac{u_\theta}{r} \right] & \frac{1}{r} \left( \frac{\partial u_\theta}{\partial \theta} + u_r \right) & \frac{1}{2} \left[ \frac{1}{r \sin \theta} \frac{\partial u_\theta}{\partial \phi} - \frac{u_\phi \cot \theta}{r} + \frac{1}{r} \frac{\partial u_\phi}{\partial \theta} \right] \\ \frac{1}{2} \left[ \frac{1}{r \sin \theta} \frac{\partial u_r}{\partial \phi} + \frac{\partial u_\phi}{\partial r} - \frac{u_\phi}{r} \right] & \frac{1}{2} \left[ \frac{1}{r \sin \theta} \frac{\partial u_\theta}{\partial \phi} - \frac{u_\phi \cot \theta}{r} + \frac{1}{r} \frac{\partial u_\phi}{\partial \theta} \right] & \frac{1}{r \sin \theta} \frac{\partial u_\phi}{\partial \phi} + \frac{u_r}{r} + \frac{u_\theta \cot \theta}{r} \end{bmatrix} \quad (4.36)$$



# 9. Signification des composantes du tenseur

## 9.1 Éléments de la diagonale de « E ».

Considérons un élément matériel  $dX^{(1)}=dX^{(2)}=dX=(dS)n$

Où « n » est un vecteur unitaire et dS est la longueur de « dX ».

Soit « ds » la longueur déformée de «  $dx^{(1)}$  » (i.e.  $ds=|dx^{(1)}|$ ).

Alors (4.32), donne

$$(ds)^2 - (dS)^2 = 2(dS)^2 \mathbf{n} \cdot \mathbf{E} \mathbf{n}$$

Or pour de petite déformation

$$(ds)^2 - (dS)^2 = (ds + dS)(ds - dS) \approx 2dS(ds - dS).$$

alors

$$\frac{ds - dS}{dS} = \mathbf{n} \cdot \mathbf{E} \mathbf{n} = E_{nn} \quad (\text{Pas de sommation}) \quad (4.37)$$

(4.37): Une élongation unitaire (augmentation de la longueur par longueur initiale unitaire) pour un élément dans une direction « n » est donnée par «  $\mathbf{n} \cdot \mathbf{E} \mathbf{n}$  »

## Signification des composantes du tenseur (suite) **Eléments de la diagonale**

En particulier

$E_{11}$  est l'élongation unitaire pour un élément originalement suivant  $x_1$ .

$E_{22}$  est l'élongation unitaire pour un élément originalement suivant  $x_2$ .

$E_{33}$  est l'élongation unitaire pour un élément originalement suivant  $x_3$ .

**Ces composantes sont appelées déformations normales**

### 9.2 Eléments hors diagonale de « E ».

Soit:

$$dX^{(1)} = dS_1 \mathbf{m} \quad \text{et} \quad dX^{(2)} = dS_2 \mathbf{n}$$

où « m » et « n » sont 02 vecteurs unitaires perpendiculaires.

Alors

$$(ds_1)(ds_2)\cos\theta = 2(dS_1)(dS_2)\mathbf{m} \cdot \mathbf{En} \quad (4.38)$$

«  $\theta$  » est l'angle entre  $dx^{(1)}$  et  $dx^{(2)}$ .

Si «  $\theta = \pi/2 - \gamma$  » alors «  $\gamma$  » peut représenter une petite diminution de l'angle entre  $dX^{(1)}$  et  $dX^{(2)}$ , connue sous le nom de déformation angulaire ou bien distorsion.

## Signification des composantes du tenseur (suite) **Eléments hors diagonale**

Or:

$$\cos\left(\frac{\pi}{2}-\gamma\right) = \sin\gamma$$

Et pour de petite déformation:

$$\sin\gamma \approx \gamma, \quad \frac{ds_1}{dS_1} \approx 1, \quad \frac{ds_2}{dS_2} \approx 1$$

alors

$$\gamma = 2\mathbf{m} \cdot \mathbf{E}\mathbf{n} \quad (4.39)$$

Si les éléments sont dans les directions  $\mathbf{e}_1$  et  $\mathbf{e}_2$ , alors  **$\mathbf{m} \cdot \mathbf{E}\mathbf{n} = E_{12}$** .

D'où:

$2E_{12}$  est la diminution de l'angle entre 02 éléments initialement dans les directions  $\mathbf{x}_1$  et  $\mathbf{x}_2$ .

$2E_{13}$  est la diminution de l'angle entre 02 éléments initialement dans les directions  $\mathbf{x}_1$  et  $\mathbf{x}_3$ .

$2E_{23}$  est la diminution de l'angle entre 02 éléments initialement dans les directions  $\mathbf{x}_2$  et  $\mathbf{x}_3$ .

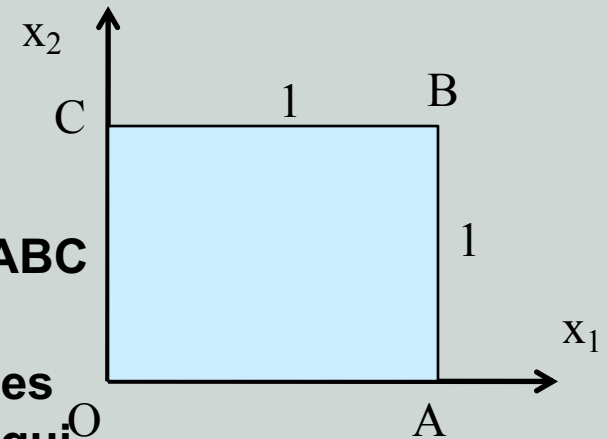
## Signification des composantes du tenseur (suite)

### Exemple 1

Soient les composantes de déplacements suivantes:

$$u_1 = kX_2^2, \quad u_2 = u_3 = 0.$$

- Tracer la forme déformée du carré unitaire OABC de la figure.
- Trouver le vecteur déformé (i.e.  $dx^{(1)}$  et  $dx^{(2)}$ ) des éléments matériels  $dX^{(1)}=dX_1e_1$  et  $dX^{(2)}=dX_2e_2$  qui étaient au point « C ».
- Déterminer le rapport des longueurs déformées et non déformées des éléments de b) et le changement d'angle entre ces éléments.



## Signification des composantes du tenseur (suite)

### Solution

a) Pour OA,  $X_2=0$ , d'où  $u_1=u_2=u_3=0$ . (OA ne se déplace pas).  
Pour CB,  $X_2=1$ ,  $u_1=k$ ,  $u_2=u_3=0$ . CB se déplace de « k » suivant  $x_1$ .  
Pour OC et AB,  $u_1=kX_2^2$ , la ligne est parabolique.  
On obtient alors la déformée de la figure.

b) Au point « C », la matrice du gradient de déplacement est:

$$[\nabla \mathbf{u}] = \begin{bmatrix} 0 & 2kX_2 & 0 \\ 0 & 0 & 0 \\ 0 & 0 & 0 \end{bmatrix}_{X_2=1} = \begin{bmatrix} 0 & 2k & 0 \\ 0 & 0 & 0 \\ 0 & 0 & 0 \end{bmatrix}$$

Or (4.23)

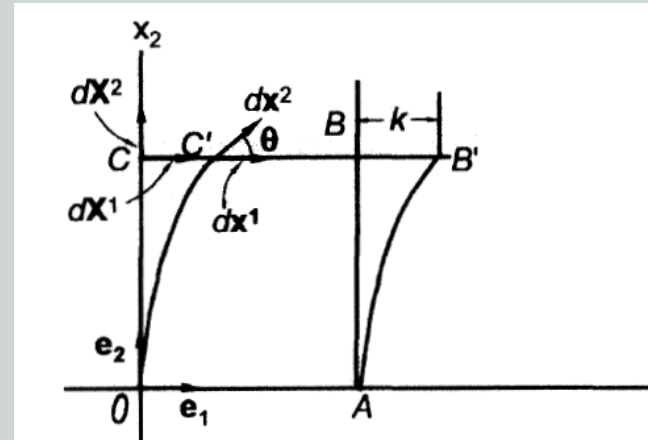
$$d\mathbf{x} = d\mathbf{X} + (\nabla \mathbf{u})d\mathbf{X}$$

D'où:

$$d\mathbf{x}^{(1)} = d\mathbf{X}^{(1)} + (\nabla \mathbf{u})d\mathbf{X}^{(1)} = dX_1\mathbf{e}_1 + 0 = dX_1\mathbf{e}_1$$

$$d\mathbf{x}^{(2)} = d\mathbf{X}^{(2)} + (\nabla \mathbf{u})d\mathbf{X}^{(2)} = dX_2\mathbf{e}_2 + 2kdX_2\mathbf{e}_1 = dX_2(\mathbf{e}_2 + 2k\mathbf{e}_1)$$

(i)



## Signification des composantes du tenseur (suite)

### Solution

c) Des équations « i », on a:

$$|d\mathbf{x}^{(1)}| = dX_1, \quad |d\mathbf{x}^{(2)}| = dX_2(1+4k^2)^{1/2}$$

D'où:

$$\frac{|d\mathbf{x}^{(1)}|}{|d\mathbf{X}^{(1)}|} = 1$$

et

$$\frac{|d\mathbf{x}^{(2)}|}{|d\mathbf{X}^{(2)}|} = (1+4k^2)^{1/2}$$

et

$$\cos\theta = \frac{d\mathbf{x}^{(1)} \cdot d\mathbf{x}^{(2)}}{|d\mathbf{x}^{(1)}| |d\mathbf{x}^{(2)}|} = \frac{2k}{(1+4k^2)^{1/2}}$$

Si « k » est très petite:

$$\frac{|d\mathbf{x}^{(1)}|}{|d\mathbf{X}^{(1)}|} = 1$$

$$\frac{|d\mathbf{x}^{(2)}|}{|d\mathbf{X}^{(2)}|} = (1+2k^2) \approx 1$$

$$\cos\theta = 2k$$

En utilisant « $\gamma$ »

$$\cos\theta = \cos\left(\frac{\pi}{2} - \gamma\right) = \sin\gamma = 2k$$

$$\gamma = 2k$$

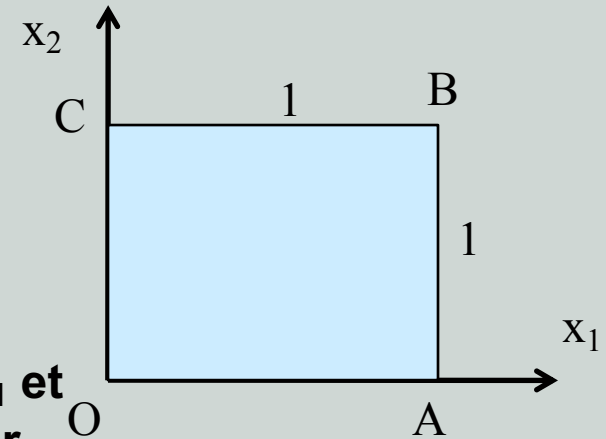
## Signification des composantes du tenseur (suite)

### Exemple 2

Reprendre le même exemple en passant par le tenseur des déformations

$$u_1 = kX_2^2, \quad u_2 = u_3 = 0.$$

- Définir le tenseur  $E$
- En utilisant le tenseur  $E$ , trouver l'élongation unitaire pour les éléments matériels  $dX^{(1)}=dX_1e_1$  et  $dX^{(2)}=dX_2e_2$  qui étaient au point  $C(0,1,0)$ . Trouver la diminution de l'angle entre ces 02 éléments.
- Comparer les résultats avec ceux de l'exemple 1.



## Signification des composantes du tenseur (suite)

### Solution

a) Tenseur E.

$$[\nabla \mathbf{u}] = \begin{bmatrix} 0 & 2kX_2 & 0 \\ 0 & 0 & 0 \\ 0 & 0 & 0 \end{bmatrix}$$

D'où

$$[\mathbf{E}] = [\nabla u]^s = \begin{bmatrix} 0 & kX_2 & 0 \\ kX_2 & 0 & 0 \\ 0 & 0 & 0 \end{bmatrix}$$

b) En « C »,  $X_2=1$ , d'où

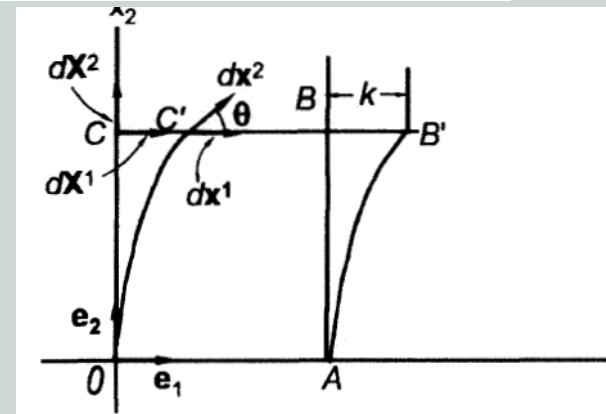
$$[\mathbf{E}] = \begin{bmatrix} 0 & k & 0 \\ k & 0 & 0 \\ 0 & 0 & 0 \end{bmatrix}$$

$$E_{11}=E_{22}=0, \quad 2E_{12}=k \quad (\text{ex 1})$$

c)

$$\frac{|dx^{(1)}| - |d\mathbf{X}^{(1)}|}{|d\mathbf{X}^{(1)}|} = 0, \quad \frac{|dx^{(2)}| - |d\mathbf{X}^{(2)}|}{|d\mathbf{X}^{(2)}|} = (1+4k^2)^{1/2} - 1 = 1+2k^2 - 1 = 2k^2 (\approx 0)$$

$$\sin \gamma = 2k$$





# 10. Etude du tenseur de déformation

## 10.1 Déformations principales

Puisque  $\mathbf{E}$  est symétrique, il existe au moins 03 directions mutuellement perpendiculaires  $n_1$ ,  $n_2$  et  $n_3$  où la matrice de  $\mathbf{E}$  est diagonale:

$$[\mathbf{E}]_{n_i} = \begin{bmatrix} E_1 & 0 & 0 \\ 0 & E_2 & 0 \\ 0 & 0 & E_3 \end{bmatrix} \quad (4.40)$$

i.e. des éléments lignes infinitésimaux dans les directions  $n_1$ ,  $n_2$  et  $n_3$  restent perpendiculaires après déformation.

Ces directions sont appelées **directions principales** de déformation.

$E_1$ ,  $E_2$  et  $E_3$  : **déformations principales**.

$E_1$ ,  $E_2$  et  $E_3$  seront déterminées à partir de l'équation caractéristique:

$$\lambda^3 - I_1\lambda^2 + I_2\lambda - I_3 = 0 \quad (4.41)$$

Avec:

$$I_1 = E_{11} + E_{22} + E_{33}$$

$$I_2 = \begin{vmatrix} E_{11} & E_{12} \\ E_{21} & E_{22} \end{vmatrix} + \begin{vmatrix} E_{11} & E_{13} \\ E_{31} & E_{33} \end{vmatrix} + \begin{vmatrix} E_{22} & E_{23} \\ E_{32} & E_{33} \end{vmatrix} \quad (4.42)$$

$$I_3 = |E_{ij}|$$

invariants

# Etude du tenseur de déformation (suite)

## 10.2 Sphérique et Déviateur

$$\bar{\bar{\varepsilon}}(M) = \bar{\bar{S}} + \bar{\bar{D}} = \begin{vmatrix} E_m & 0 & 0 \\ 0 & E_m & 0 \\ 0 & 0 & E_m \end{vmatrix} + \begin{vmatrix} E_{11} - E_m & E_{12} & E_{13} \\ E_{21} & E_{22} - E_m & E_{23} \\ E_{31} & E_{32} & E_{33} - E_m \end{vmatrix}$$

$$E_m = \frac{1}{3} \text{Tr}(\bar{\bar{\varepsilon}})$$

$$E_d^2 = \frac{1}{3} \text{Tr}(\bar{\bar{D}}^2)$$

Sphérique  $S$   $\text{Tr}(S) = \text{Tr}(\varepsilon)$

Déviateur  $D$   $\text{Tr}(D) = 0$

$E_m$  Déformation Normale Moyenne (Extension ou Contraction)

$E_d$  Déformation Déviatorique Moyenne (Distorsion)

$\pi$  Tenseur des Directions  $\text{Tr}(\pi) = 0$  et  $\text{Tr}(\pi^2) = 3$

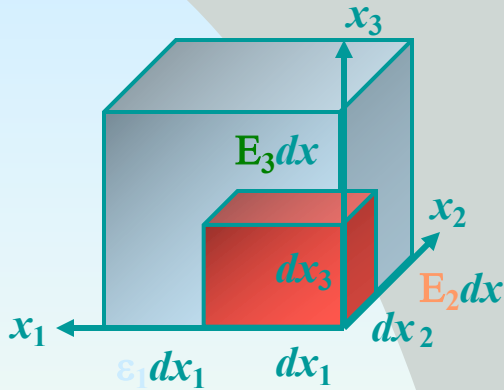
$$\bar{\bar{\varepsilon}}(M) = \bar{\bar{S}} + \bar{\bar{D}} = E_m \bar{\bar{\delta}} + E_d \bar{\bar{\pi}} = E_m \begin{vmatrix} 1 & 0 & 0 \\ 0 & 1 & 0 \\ 0 & 0 & 1 \end{vmatrix} + E_d \begin{vmatrix} \pi_1(\mu) & 0 & 0 \\ 0 & \pi_2(\mu) & 0 \\ 0 & 0 & \pi_3(\mu) \end{vmatrix}$$

6 Composantes =  $E_m + E_d + \mu + 3$  Angles d'Euler



# Etude du tenseur de déformation (suite)

## 10.3 Changement de volume et de forme



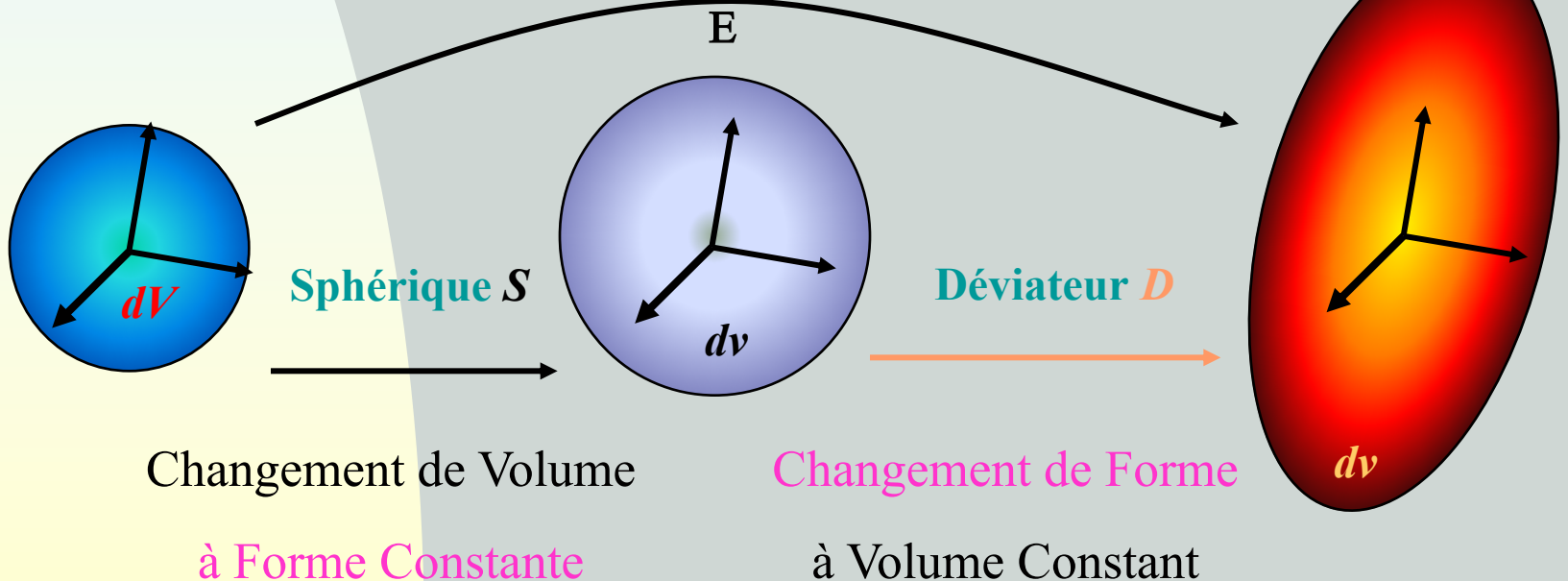
$$E = \begin{bmatrix} E_1 & 0 & 0 \\ 0 & E_2 & 0 \\ 0 & 0 & E_3 \end{bmatrix}$$

$$dV = dx_1 dx_2 dx_3$$

$$dv = (1+E_1) dx_1 (1+E_2) dx_2 (1+E_3) dx_3$$

Variation Relative de Volume  $\frac{dv - dV}{dV} = E_1 + E_2 + E_3 = \text{Tr}(E) = \text{Div } \vec{u}$

Dilatation



## Etude du tenseur de déformation (suite) Dilatation

La dilatation volumique est:

i) En coordonnées cartésiennes

$$e = E_{ii} = \frac{\partial u_i}{\partial X_i} = \text{div} \mathbf{u} = E_{11} + E_{22} + E_{33} \quad (4.43)$$

ii) En coordonnées cylindriques

$$e = \frac{\partial u_r}{\partial r} + \frac{1}{r} \frac{\partial u_\theta}{\partial \theta} + \frac{u_r}{r} + \frac{\partial u_z}{\partial z} \quad (4.44)$$

iii) En coordonnées sphériques

$$e = \frac{\partial u_r}{\partial r} + \frac{1}{r} \frac{\partial u_\theta}{\partial \theta} + \frac{2u_r}{r} + \frac{1}{r \sin \theta} \frac{\partial u_\phi}{\partial \phi} + \frac{u_\theta \cot \theta}{r} \quad (4.45)$$

# 11. Tenseur de rotation

Mathématiquement, le gradient d'un champ de vecteur peut être décomposé en partie symétrique et partie antisymétrique. Soit

$$\text{grad} \mathbf{U} = U_{i,j} = U_{i,j} + \frac{1}{2} (U_{j,i} - U_{j,i}) \quad (4.46)$$

$$U_{i,j} = \frac{1}{2} (U_{i,j} + U_{j,i}) + \frac{1}{2} (U_{i,j} - U_{j,i})$$

Tenseur de déformation

Tenseur de rotation

Soit:  $\nabla \mathbf{u} = \mathbf{E} + \mathbf{\Omega}$

Ainsi:  $d\mathbf{x} = d\mathbf{X} + (\mathbf{E} + \mathbf{\Omega})d\mathbf{X}$

Le changement de direction de  $d\mathbf{X}$  est dû au tenseur de déformation «  $\mathbf{E}$  » et au tenseur de rotation «  $\mathbf{\Omega}$  ».

La rotation est décrite par:

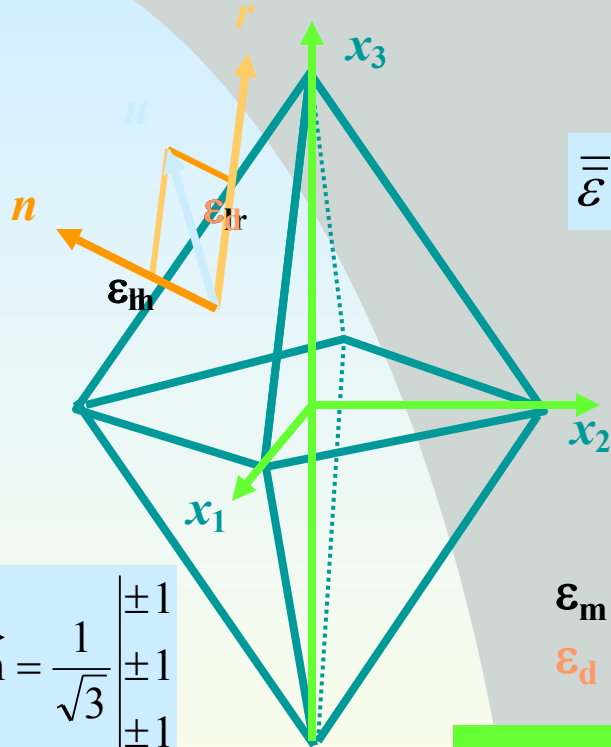
$$\mathbf{r}^A \times d\mathbf{X} = \mathbf{\Omega} d\mathbf{X}$$

avec

$$\mathbf{r}^A = \Omega_{32}\mathbf{e}_1 + \Omega_{13}\mathbf{e}_2 + \Omega_{21}\mathbf{e}_3 \quad (4.47)$$

# 12. Représentation des déformations

## 12.1 Déformations octaédriques



$$\bar{\bar{\epsilon}}(M) = \bar{\bar{S}} + \bar{\bar{D}} =$$

$$\epsilon_m \begin{vmatrix} 1 & 0 & 0 \\ 0 & 1 & 0 \\ 0 & 0 & 1 \end{vmatrix} + \begin{vmatrix} D_1 & 0 & 0 \\ 0 & D_2 & 0 \\ 0 & 0 & D_3 \end{vmatrix}$$

Sphérique  $S$   $\text{Tr}(S) = \text{Tr}(\epsilon)$

Déviateur  $D$   $\text{Tr}(D) = 0$

$$\epsilon_m = \frac{1}{3} \text{Tr}(\bar{\bar{S}})$$

$$\epsilon_d^2 = \frac{1}{3} \text{Tr}(\bar{\bar{D}}^2)$$

$\epsilon_m$  Déformation Normale Moyenne (Extension - Contraction)

$\epsilon_d$  Déformation Déviatorique Moyenne (Distorsion)

$$\epsilon_{nn} = \vec{n} \cdot \vec{u} = \vec{n} \cdot \bar{\bar{S}} \vec{1} + \vec{n} \cdot \bar{\bar{D}} \vec{1} = \frac{1}{3} \text{Tr}(\bar{\bar{S}}) + \frac{1}{3} \text{Tr}(\bar{\bar{D}}) = \epsilon_m$$

$$\epsilon_{nn} = \epsilon_m$$

$$\begin{aligned} \epsilon_{nr}^2 &= \vec{T} \cdot \vec{T} - \epsilon_{mn}^2 = \vec{n} \cdot (\bar{\bar{S}} + \bar{\bar{D}})^2 \vec{n} = \vec{n} \cdot (\bar{\bar{S}}^2) \vec{n} + 2\vec{n} \cdot (\bar{\bar{S}} \bar{\bar{D}}) \vec{n} + \vec{n} \cdot (\bar{\bar{D}}^2) \vec{n} - \epsilon_m^2 \\ &= \frac{1}{3} \text{Tr}(\bar{\bar{S}}^2) + 2\sigma_m \text{Tr}(\bar{\bar{D}}) + \frac{1}{3} \text{Tr}(\bar{\bar{D}}^2) - \epsilon_m^2 = \epsilon_d^2 \end{aligned}$$

$$\epsilon_{nr} = \epsilon_d$$

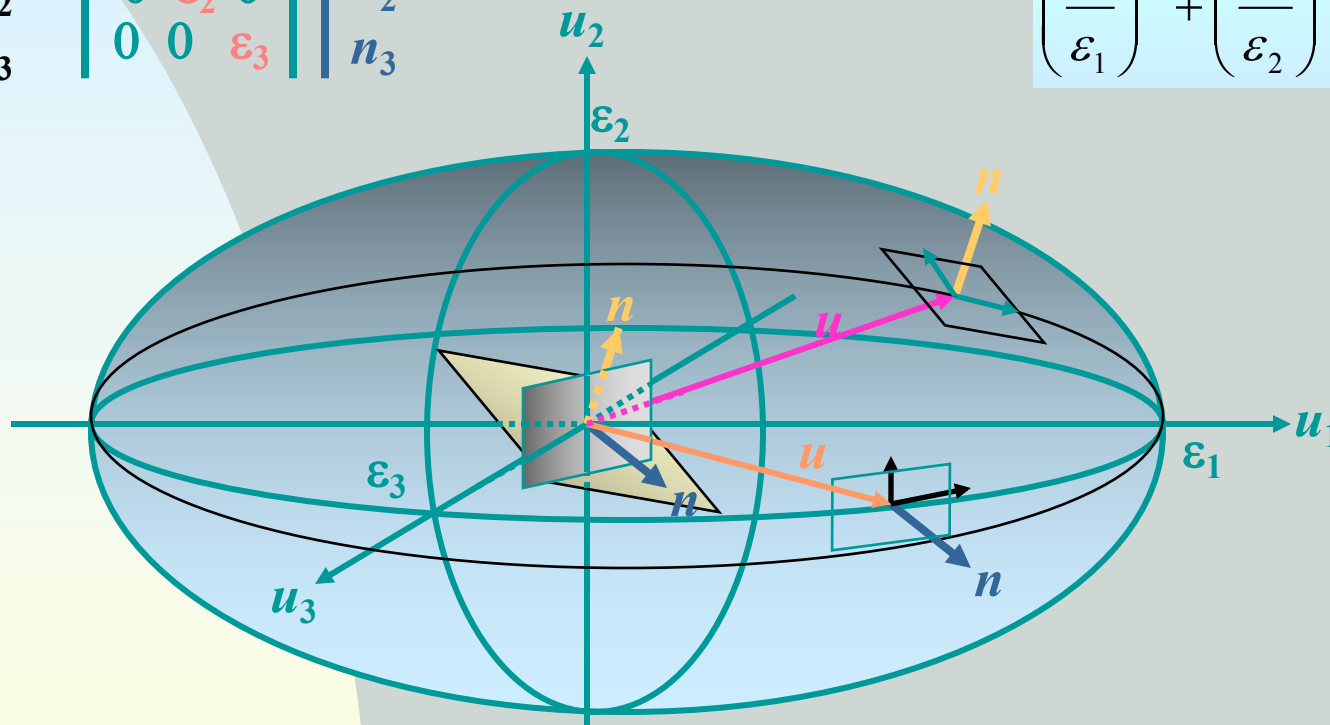


## Représentation des déformations (Suite)

### 12.2 Ellipsoïde des déformations

$$\begin{matrix} u_1 \\ u_2 \\ u_3 \end{matrix} = \begin{vmatrix} \varepsilon_1 & 0 & 0 \\ 0 & \varepsilon_2 & 0 \\ 0 & 0 & \varepsilon_3 \end{vmatrix} \begin{matrix} n_1 \\ n_2 \\ n_3 \end{matrix}$$

$$\left(\frac{u_1}{\varepsilon_1}\right)^2 + \left(\frac{u_2}{\varepsilon_2}\right)^2 + \left(\frac{u_3}{\varepsilon_3}\right)^2 = 1$$

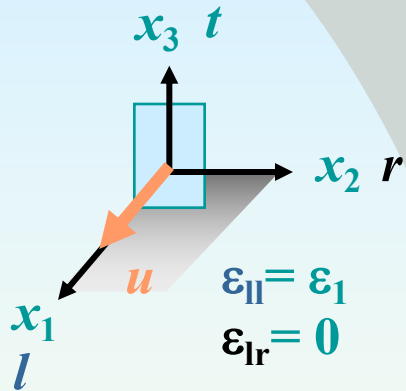


Lorsque  $n$  appartient à un plan principal,  $u$  appartient au même plan

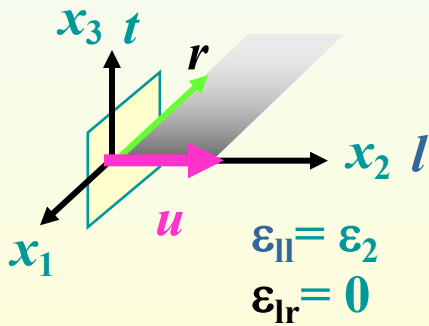
# Représentation des déformations (Suite)

## 12.3 Cercle de Mohr Principal

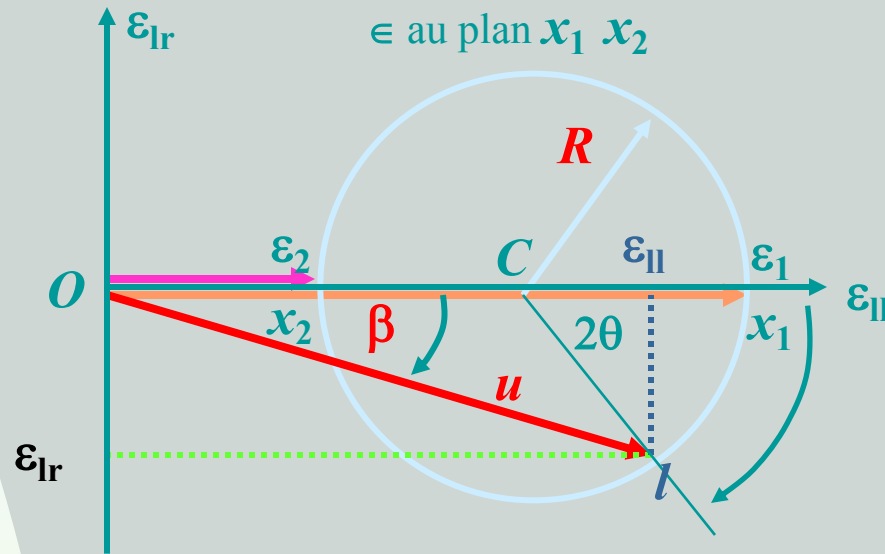
Direction  $x_1$



Direction  $x_2$



Directions  $\perp$  à la direction principale  $x_3$   
 $\in$  au plan  $x_1 x_2$

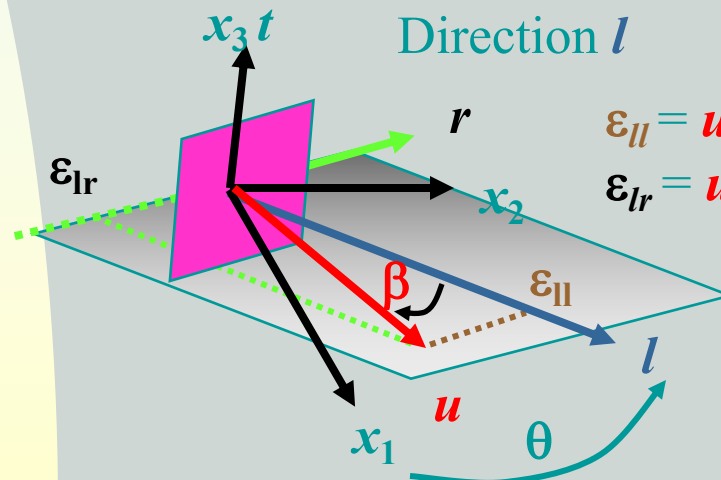


$$\bar{\bar{\epsilon}}(M) = \begin{vmatrix} \epsilon_1 & 0 & 0 \\ 0 & \epsilon_2 & 0 \\ 0 & 0 & \epsilon_3 \end{vmatrix}$$

$$R = \frac{\epsilon_1 - \epsilon_2}{2}$$

$$OC = \frac{\epsilon_1 + \epsilon_2}{2}$$

Direction  $l$



$$\epsilon_{11} = u \cdot l = l \epsilon l = OC + R \cos 2\theta$$

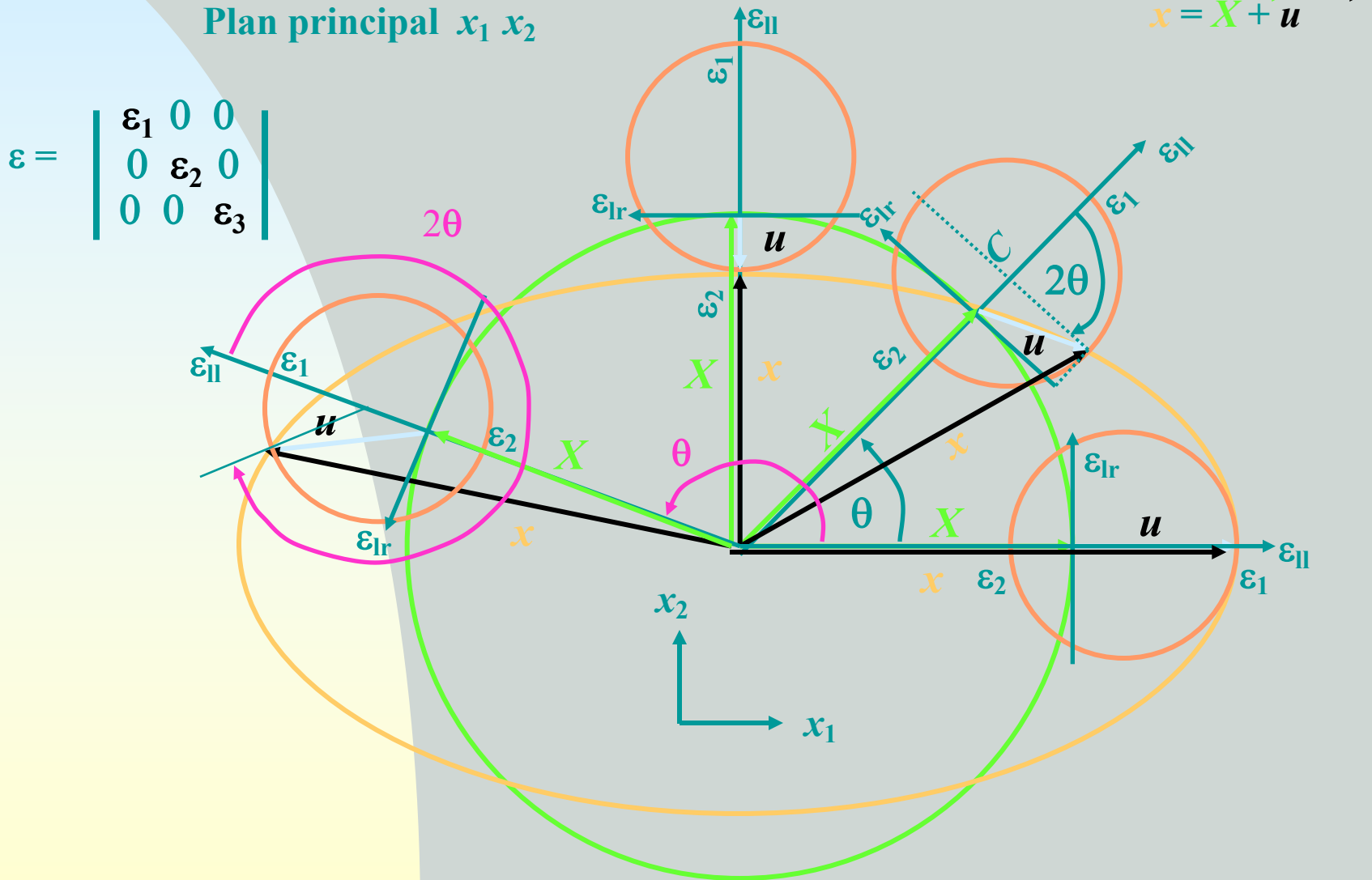
$$\epsilon_{lr} = u \cdot r = l \epsilon r = -R \sin 2\theta$$





# Représentation des déformations (Suite)

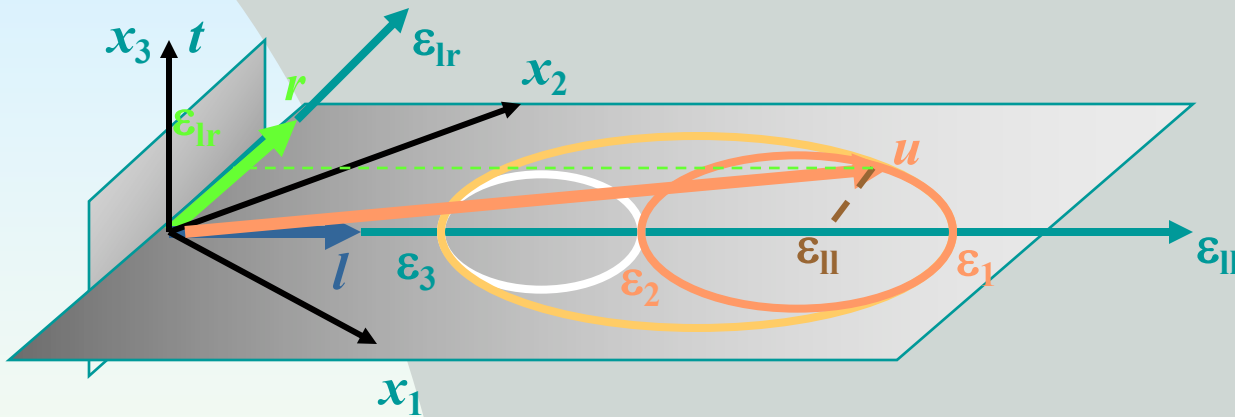
## 12.4 Cercle de Mohr et Déformation



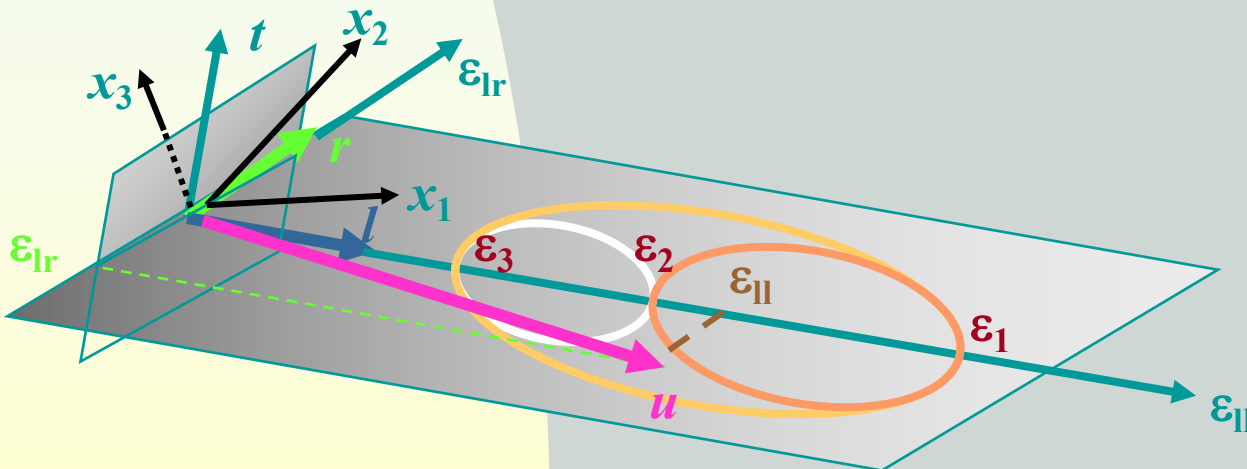
# Représentation des déformations (Suite)

## 12.5 Cercles de Mohr

Direction  $l$  appartenant à un plan principal ( $x_1 x_2$ )



Direction  $l$  n'appartenant pas à un plan principal

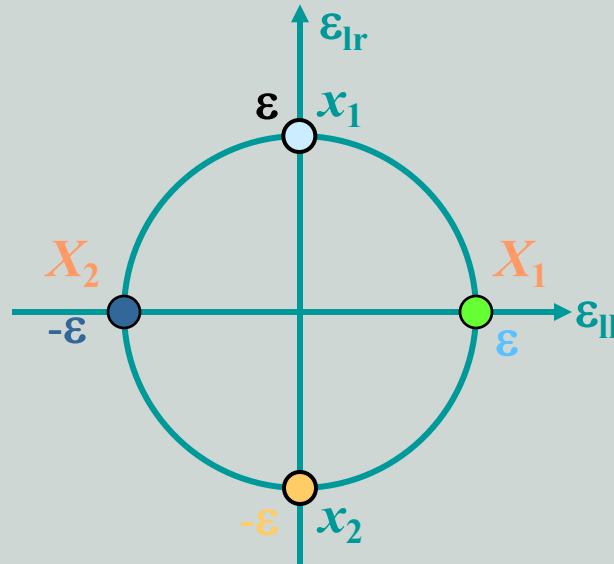
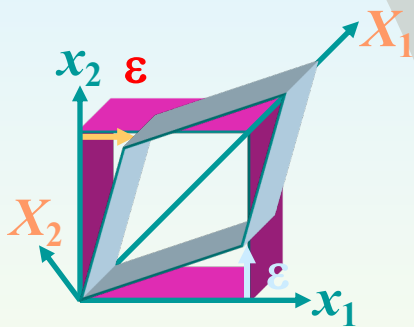


$$\bar{\bar{\epsilon}}(M) = \begin{vmatrix} \epsilon_1 & 0 & 0 \\ 0 & \epsilon_2 & 0 \\ 0 & 0 & \epsilon_3 \end{vmatrix}$$

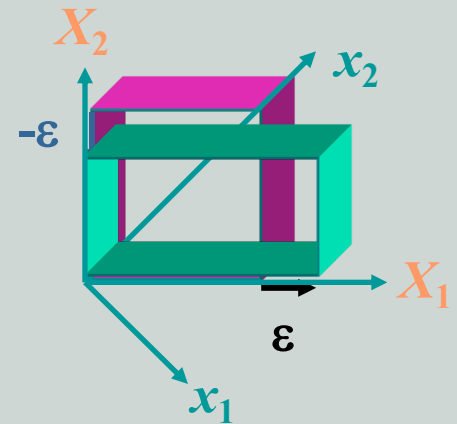
# Représentation des déformations (Suite)

## 12.6 Glissement pur et glissement simple

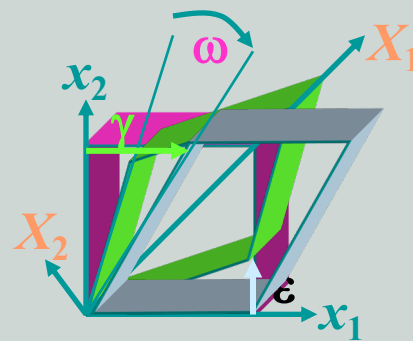
$$\bar{\bar{\epsilon}}_{||} = \begin{vmatrix} 0 & \epsilon & 0 \\ \epsilon & 0 & 0 \\ 0 & 0 & 0 \end{vmatrix}$$



$$\bar{\bar{\epsilon}}_{||} = \begin{vmatrix} \epsilon & 0 & 0 \\ 0 & -\epsilon & 0 \\ 0 & 0 & 0 \end{vmatrix}$$



$$\bar{\bar{\Omega}} = \begin{vmatrix} 0 & \epsilon & 0 \\ -\epsilon & 0 & 0 \\ 0 & 0 & 0 \end{vmatrix}$$



$$\bar{\bar{G}} = \begin{vmatrix} 0 & 2\epsilon & 0 \\ 0 & 0 & 0 \\ 0 & 0 & 0 \end{vmatrix}$$

La distorsion est maximale sur les directions orientées à 45° des directions principales

La rotation  $\omega = -\epsilon$

Le glissement est le double de la distorsion  $\gamma = 2\epsilon$



# 13. Taux de changement de l'élément matériel

Soit un élément matériel «  $dx$  » du au point matériel «  $X$  » situé à la position «  $x$  » au temps «  $t$  ».

Le taux de changement de la longueur et direction de l'élément matériel «  $dx$  » est (sachant que  $x=x(X,t)$ ):

$$dx = x(X+dX,t) - x(X,t) \quad (4.48)$$

En dérivant, on aura:

$$\left(\frac{D}{Dt}\right)dx = \left(\frac{D}{Dt}\right)x(X+dX,t) - \left(\frac{D}{Dt}\right)x(X,t) \quad (4.49)$$

Posons

$$(D/Dt)x(X,t) = \hat{v}(X,t) = \tilde{v}(x,t) \quad (4.50)$$

Où  $\hat{v}(X,t)$  et  $\tilde{v}(x,t)$  sont les description matériel et spatial (lagrange et Euler) de la vitesse de la particule «  $X$  ».

En remplaçant:

$$\left(\frac{D}{Dt}\right)dx = \hat{v}(X+dX,t) - \hat{v}(X,t) = \tilde{v}(x+dx,t) - \tilde{v}(x,t) \quad (4.51)$$

## Taux de changement de l'élément matériel (Suite)

Or on sait que (2.58) (qlq soit  $\mathbf{v}$ ):

$$d\mathbf{v} = \mathbf{v}(\mathbf{r}+d\mathbf{r}) - \mathbf{v}(\mathbf{r}) \equiv (\nabla\mathbf{v})d\mathbf{r}$$

D'où

$$\left(\frac{D}{Dt}\right)d\mathbf{x} = (\nabla_{\mathbf{X}}\hat{\mathbf{v}})d\mathbf{X} = (\nabla_{\mathbf{x}}\tilde{\mathbf{v}})d\mathbf{x} \quad (4.52)$$

On s'intéresse plus à la description spatiale (Euler) de la vitesse. D'où en coordonnées cartésiennes, on a:

$$\left(\frac{D}{Dt}\right)d\mathbf{x} = (\nabla\mathbf{v})d\mathbf{x}$$

avec

$$[\nabla\mathbf{v}] = \begin{bmatrix} \frac{\partial v_1}{\partial x_1} & \frac{\partial v_1}{\partial x_2} & \frac{\partial v_1}{\partial x_3} \\ \frac{\partial v_2}{\partial x_1} & \frac{\partial v_2}{\partial x_2} & \frac{\partial v_2}{\partial x_3} \\ \frac{\partial v_3}{\partial x_1} & \frac{\partial v_3}{\partial x_2} & \frac{\partial v_3}{\partial x_3} \end{bmatrix} \quad (4.53)$$

# 14. Taux du tenseur de déformation

Le gradient de vitesse est la somme d'une partie symétrique et partie antisymétrique.

$$(\nabla \mathbf{v}) = \mathbf{D} + \mathbf{W} \quad (4.54)$$

Où

$$\mathbf{D} = \frac{1}{2}[(\nabla \mathbf{v}) + (\nabla \mathbf{v})^T] \quad (\text{sym}) \quad (4.55)$$

et

$$\mathbf{W} = \frac{1}{2}[(\nabla \mathbf{v}) - (\nabla \mathbf{v})^T] \quad (\text{Antisym}) \quad (4.56)$$

«  $\mathbf{D}$  »: taux du tenseur de déformation ou tenseur de **la vitesse de déformation**.

«  $\mathbf{W}$  »: Tenseur de **rotation de la vitesse de déformation** (Spin tensor)

avec

## Taux du tenseur de déformation (suite)

D'où.

$$\begin{aligned}
 [\mathbf{D}] &= \begin{bmatrix} \frac{\partial v_1}{\partial x_1} & \frac{1}{2} \left( \frac{\partial v_1}{\partial x_2} + \frac{\partial v_2}{\partial x_1} \right) & \frac{1}{2} \left( \frac{\partial v_1}{\partial x_3} + \frac{\partial v_3}{\partial x_1} \right) \\ \frac{1}{2} \left( \frac{\partial v_1}{\partial x_2} + \frac{\partial v_2}{\partial x_1} \right) & \frac{\partial v_2}{\partial x_2} & \frac{1}{2} \left( \frac{\partial v_2}{\partial x_3} + \frac{\partial v_3}{\partial x_2} \right) \\ \frac{1}{2} \left( \frac{\partial v_1}{\partial x_3} + \frac{\partial v_3}{\partial x_1} \right) & \frac{1}{2} \left( \frac{\partial v_2}{\partial x_3} + \frac{\partial v_3}{\partial x_2} \right) & \frac{\partial v_3}{\partial x_3} \end{bmatrix} \\
 [\mathbf{W}] &= \begin{bmatrix} 0 & \frac{1}{2} \left( \frac{\partial v_1}{\partial x_2} - \frac{\partial v_2}{\partial x_1} \right) & \frac{1}{2} \left( \frac{\partial v_1}{\partial x_3} - \frac{\partial v_3}{\partial x_1} \right) \\ -\frac{1}{2} \left( \frac{\partial v_1}{\partial x_2} - \frac{\partial v_2}{\partial x_1} \right) & 0 & \frac{1}{2} \left( \frac{\partial v_2}{\partial x_3} - \frac{\partial v_3}{\partial x_2} \right) \\ -\frac{1}{2} \left( \frac{\partial v_1}{\partial x_3} - \frac{\partial v_3}{\partial x_1} \right) & -\frac{1}{2} \left( \frac{\partial v_2}{\partial x_3} - \frac{\partial v_3}{\partial x_2} \right) & 0 \end{bmatrix}
 \end{aligned} \tag{4.57}$$

Or:

$$\frac{\partial v_1}{\partial x_1} = \frac{\partial \left( \frac{\partial u_1}{\partial t} \right)}{\partial x_1} = \frac{\partial \left( \frac{\partial u_1}{\partial x_1} \right)}{\partial t} = \frac{\partial \varepsilon_{11}}{\partial t} = \dot{\varepsilon}_{11} = D_{11}$$

Appelée **vitesse de déformation**. ...

## Taux du tenseur de déformation (suite)

### Exemple

Soit le champ de vitesse suivant:

$$v_1 = kx_2 \quad v_2 = v_3 = 0$$

- Trouver les tenseurs « D » et « W ».
- Déterminer le taux d'extension des éléments matériels:

$$d\mathbf{x}^{(1)} = (ds_1)\mathbf{e}_1, \quad d\mathbf{x}^{(2)} = (ds_2)\mathbf{e}_2, \quad \text{et} \quad d\mathbf{x} = \frac{ds}{\sqrt{5}}(\mathbf{e}_1 + 2\mathbf{e}_2)$$

- Trouver la max et le min des taux d'extension.



## Taux du tenseur de déformation (suite)

### Solution

$$v_1 = kx_2 \quad v_2 = v_3 = 0$$

a) La matrice du gradient de vitesse est:

$$[\nabla \mathbf{v}] = \begin{bmatrix} 0 & k & 0 \\ 0 & 0 & 0 \\ 0 & 0 & 0 \end{bmatrix}$$

D'où: partie symétrique et partie antisymétrique:

$$[\mathbf{D}] = [\nabla \mathbf{v}]^S = \begin{bmatrix} 0 & \frac{k}{2} & 0 \\ \frac{k}{2} & 0 & 0 \\ 0 & 0 & 0 \end{bmatrix}$$

et

$$[\mathbf{W}] = [\nabla \mathbf{v}]^A = \begin{bmatrix} 0 & \frac{k}{2} & 0 \\ -\frac{k}{2} & 0 & 0 \\ 0 & 0 & 0 \end{bmatrix}$$

## Taux du tenseur de déformation (suite)

### Solution

b) On sait que, si :  $\mathbf{dx} = ds \mathbf{n}$  ( $\mathbf{n}$ : vecteur unitaire) et  $(\mathbf{dx} \cdot \mathbf{dx} = (ds)^2)$  alors:

$$\frac{1}{ds} \frac{D(ds)}{Dt} = \mathbf{n} \cdot \mathbf{Dn}$$

D'où: pour

Élément «  $\mathbf{dx}^{(1)}$  », il est dans la direction  $\mathbf{e}_1$ . D'où  $D_{11} = 0$

Élément «  $\mathbf{dx}^{(2)}$  » est dans la direction  $\mathbf{e}_2$ . d'où  $D_{22} = 0$

Élément «  $\mathbf{dx} = (ds) \mathbf{n}$  », on a:  $\mathbf{n} = \left( \frac{1}{\sqrt{5}} \right) (\mathbf{e}_1 + 2\mathbf{e}_2)$

D'où

$$\frac{1}{ds} \frac{D}{Dt}(ds) = \mathbf{n} \cdot \mathbf{Dn} = \frac{1}{5} [1, 2, 0] \begin{bmatrix} 0 & \frac{k}{2} & 0 \\ \frac{k}{2} & 0 & 0 \\ 0 & 0 & 0 \end{bmatrix} \begin{bmatrix} 1 \\ 2 \\ 0 \end{bmatrix} = \frac{2}{5}k$$

## Taux du tenseur de déformation (suite)

### Solution

c) De l'équation caractéristique

$$|\mathbf{D} - \lambda \mathbf{I}| = -\lambda(\lambda^2 - k^2/4) = 0$$

Les valeurs principales sont:

$$\lambda = 0, \pm k/2$$

D'où

$$D_{\max} = k/2 \quad \text{et} \quad D_{\min} = -k/2$$

Les vecteurs principaux correspondants sont:

$$\mathbf{n}_1 = \left(\frac{\sqrt{2}}{2}\right)(\mathbf{e}_1 + \mathbf{e}_2) \quad \text{et} \quad \mathbf{n}_2 = \left(\frac{\sqrt{2}}{2}\right)(\mathbf{e}_1 - \mathbf{e}_2)$$

# 15. Equations de Compatibilité

Connaissant le vecteur de déplacement ( $u_1, u_2, u_3$ ) on peut définir le vecteur déformation (6 composantes) en n'importe quelle région où les dérivées partielles existent.

Réciproquement, si on connaît les déformations, peut-on calculer les déplacements. Généralement non.

Le problème donc est de déterminer les déplacements à partir des déformations.

Dans ce cas pour assurer cette résolution, i.e. pour assurer la **continuité** du milieu, les composantes de déformations doivent satisfaire des conditions dites **conditions de compatibilité**.

## **Théorème:**

Si  $E_{ij}(X_1, X_2, X_3)$  sont des fonctions continues ayant des dérivées partielles continues dans une région, alors les conditions nécessaires et suffisantes pour l'existence de solutions fonctions continues uniques de  $u_1, u_2$  et  $u_3$  (06 équations de déformations) sont les équations de compatibilité suivantes:

## Equations de Compatibilité (suite)

$$\frac{\partial^2 E_{11}}{\partial X_2^2} + \frac{\partial^2 E_{22}}{\partial X_1^2} = 2 \frac{\partial^2 E_{12}}{\partial X_1 \partial X_2}$$

$$\frac{\partial^2 E_{22}}{\partial X_3^2} + \frac{\partial^2 E_{33}}{\partial X_2^2} = 2 \frac{\partial^2 E_{23}}{\partial X_2 \partial X_3}$$

$$\frac{\partial^2 E_{33}}{\partial X_1^2} + \frac{\partial^2 E_{11}}{\partial X_3^2} = 2 \frac{\partial^2 E_{31}}{\partial X_3 \partial X_1}$$

$$\frac{\partial^2 E_{11}}{\partial X_2 \partial X_3} = \frac{\partial}{\partial X_1} \left( \frac{-\partial E_{23}}{\partial X_1} + \frac{\partial E_{31}}{\partial X_2} + \frac{\partial E_{12}}{\partial X_3} \right)$$

$$\frac{\partial^2 E_{22}}{\partial X_3 \partial X_1} = \frac{\partial}{\partial X_2} \left( \frac{-\partial E_{31}}{\partial X_2} + \frac{\partial E_{12}}{\partial X_3} + \frac{\partial E_{23}}{\partial X_1} \right)$$

$$\frac{\partial^2 E_{33}}{\partial X_1 \partial X_2} = \frac{\partial}{\partial X_3} \left( \frac{-\partial E_{12}}{\partial X_3} + \frac{\partial E_{23}}{\partial X_1} + \frac{\partial E_{31}}{\partial X_2} \right)$$

(4.58)

$$\varepsilon_{ij,kl} + \varepsilon_{kl,ij} = \varepsilon_{ik,jl} + \varepsilon_{jl,ik}$$

(4.59)

# 15. Equations de Compatibilité pour les taux de déformation

On peut exprimer les équations de continuité en fonction des vitesses au lieu des déplacements.

Sachant que

$$\frac{1}{2} \left( \frac{\partial v_i}{\partial x_j} + \frac{\partial v_j}{\partial x_i} \right) = D_{ij} \quad (4.60)$$

Les équations de compatibilité seront alors:

$$\begin{aligned} \frac{\partial^2 D_{11}}{\partial x_2^2} + \frac{\partial^2 D_{22}}{\partial x_1^2} &= 2 \frac{\partial^2 D_{12}}{\partial x_1 \partial x_2} \\ \frac{\partial^2 D_{22}}{\partial x_3^2} + \frac{\partial^2 D_{33}}{\partial x_2^2} &= 2 \frac{\partial^2 D_{23}}{\partial x_2 \partial x_3} \\ \frac{\partial^2 D_{33}}{\partial x_1^2} + \frac{\partial^2 D_{11}}{\partial x_3^2} &= 2 \frac{\partial^2 D_{13}}{\partial x_1 \partial x_3} \end{aligned} \quad (4.61)$$

Etc...

# 16. Gradient de déformation

Un mvt général d'un MC est décrit par:

$$\mathbf{x} = \mathbf{x}(\mathbf{X}, t) \quad (4.62)$$

«  $\mathbf{x}$  » : position spatiale (euler) au temps «  $t$  » de la particule matériel avec «  $\mathbf{X}$  » coordonnée (lagrange) matérielle.

Un élément matériel «  $d\mathbf{X}$  » est transformé en «  $d\mathbf{x}$  » à «  $t$  » par:

$$d\mathbf{x} = \mathbf{x}(\mathbf{X} + d\mathbf{X}, t) - \mathbf{x}(\mathbf{X}, t) = (\nabla \mathbf{x}) d\mathbf{X} \quad \text{Ou bien} \quad d\mathbf{x} = \mathbf{F} d\mathbf{X} \quad (4.63)$$

Avec «  $\mathbf{F}$  » tenseur défini par:

$$\mathbf{F} = \nabla \mathbf{x} \quad (4.64)$$

Appelé **gradient de déformation** à  $\mathbf{X}$

Si «  $\mathbf{u}$  » représente un déplacement (i.e.  $\mathbf{x} = \mathbf{X} + \mathbf{u}$ ), on a :

$$\mathbf{F} = \mathbf{I} + \nabla \mathbf{u} \quad (4.65)$$

# 17. Décomposition polaire

N'importe quel tenseur réel «  $F$  » ayant un déterminant différent de zéro ( $F^{-1}$  existe), peut être décomposé en produit d'un tenseur orthogonal propre «  $R$  » et d'un tenseur symétrique «  $U$  ».

$$F = RU$$

Ou bien

$$F = VR$$

(4.66)

avec

$$U = R^T V R$$

(4.67)

«  $R$  » décrit généralement les déplacements de corps rigide

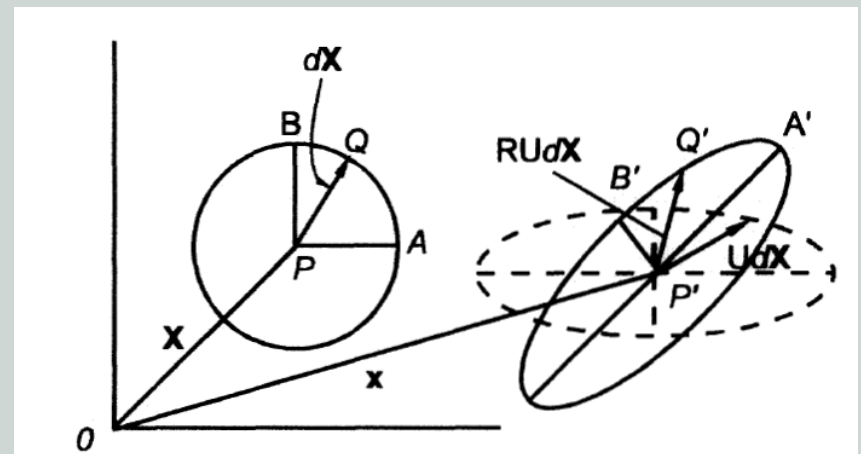
«  $U$  » décrit le tenseur des déformations de type extensions pures (principales).

Où «  $U$  » et «  $V$  » sont 02 tenseurs symétriques positifs définis .

(4.66) théorème de la **décomposition** polaire qui est **unique** (un seul  $R$ ,  $U$  et  $V$ ).

Un élément matériel «  $dX$  » à «  $X$  » est transformé en «  $dx$  » par:  
 **$dx = FdX = RUdX$ .**

Volume initial sphère ( $dX$ ) à «  $X$  » devient ellipsoïde à «  $x$  » par effet de «  $U$  » puis il subit une rotation simple par effet de «  $R$  ».





## Décomposition polaire (Suite)

On a:

$$\mathbf{F} = \mathbf{R}\mathbf{U}$$

D'où:

$$\mathbf{F}^T\mathbf{F} = (\mathbf{R}\mathbf{U})^T(\mathbf{R}\mathbf{U}) = \mathbf{U}^T\mathbf{R}^T\mathbf{R}\mathbf{U} = \mathbf{U}^T\mathbf{U} \quad (4.68)$$

Alors:

$$\mathbf{U}^2 = \mathbf{F}^T\mathbf{F} \quad (4.69)$$

«  $\mathbf{U}$  »: tenseur symétrique défini positif, alors

$$\mathbf{U} = (\mathbf{F}^T\mathbf{F})^{1/2} \quad (4.70)$$

Et pour «  $\mathbf{R}$  »:

$$\mathbf{R} = \mathbf{F}\mathbf{U}^{-1} \quad (4.71)$$

On peut facilement montrer que ( $\mathbf{R}^T\mathbf{R}=\mathbf{I}$ ) (i.e. que «  $\mathbf{R}$  » est un tenseur **orthogonal**).

# 18. Tenseur de déformation de Cauchy-Green (droit)

Posons:

$$\mathbf{C} = \mathbf{U}^2 = \mathbf{F}^T \mathbf{F} \quad (4.72)$$

«  $\mathbf{C}$  » est appelé tenseur de déformation de Cauchy-Green **droit** ou bien tenseur de déformation de **Green**.

Exemple:

Soit:

$$x_1 = X_1 + 2X_2, \quad x_2 = X_2, \quad x_3 = X_3$$

- a) Déterminer «  $\mathbf{C}$  »
- b) Calculer les valeurs principales de «  $\mathbf{C}$  » et les directions principales correspondantes.
- c) Déterminer les matrices de «  $\mathbf{U}$  » et «  $\mathbf{U}^{-1}$  » dans le repère principal.
- d) Déterminer les matrices de «  $\mathbf{U}$  » et «  $\mathbf{U}^{-1}$  » dans la base «  $\mathbf{e}_i$  ».
- e) Déterminer la matrice «  $\mathbf{R}$  » dans la base «  $\mathbf{e}_i$  ».

## Tenseur de déformation de Cauchy-Green (droit) (Suite)

Solution:

$$x_1 = X_1 + 2X_2, \quad x_2 = X_2, \quad x_3 = X_3$$

a) On a:

$$[\mathbf{F}] = \begin{bmatrix} 1 & 2 & 0 \\ 0 & 1 & 0 \\ 0 & 0 & 1 \end{bmatrix}$$

Alors:

$$[\mathbf{C}] = [\mathbf{F}]^T [\mathbf{F}] = \begin{bmatrix} 1 & 0 & 0 \\ 2 & 1 & 0 \\ 0 & 0 & 1 \end{bmatrix} \begin{bmatrix} 1 & 2 & 0 \\ 0 & 1 & 0 \\ 0 & 0 & 1 \end{bmatrix} = \begin{bmatrix} 1 & 2 & 0 \\ 2 & 5 & 0 \\ 0 & 0 & 1 \end{bmatrix}$$

Les valeurs et vecteurs propres de « C » sont (après calculs)

$$C_1 = 5.828, \quad \mathbf{n}_1 = \left( \frac{1}{2.613} \right) [\mathbf{e}_1 + 2.414\mathbf{e}_2] = [0.3827\mathbf{e}_1 + 0.9238\mathbf{e}_2]$$
$$C_2 = 0.1716, \quad \mathbf{n}_2 = \left( \frac{1}{1.0824} \right) [\mathbf{e}_1 - 0.4142\mathbf{e}_2] = [0.9238\mathbf{e}_1 - 0.3827\mathbf{e}_2]$$
$$C_3 = 1, \quad \mathbf{n}_3 = \mathbf{e}_3$$

## Tenseur de déformation de Cauchy-Green (droit) (Suite)

### Solution:

b) Matrice de « C » dans le repère principal:

$$[\mathbf{C}] = \begin{bmatrix} 5.828 & 0 & 0 \\ 0 & 0.1716 & 0 \\ 0 & 0 & 1 \end{bmatrix}$$

c) Matrices de « U » et « U<sup>-1</sup> » dans le repère principal:

$$[\mathbf{U}]_{\mathbf{n}_i} = \begin{bmatrix} \sqrt{5.828} & 0 & 0 \\ 0 & \sqrt{0.1716} & 0 \\ 0 & 0 & 1 \end{bmatrix} = \begin{bmatrix} 2.414 & 0 & 0 \\ 0 & 0.4142 & 0 \\ 0 & 0 & 1 \end{bmatrix}$$

$$[\mathbf{U}^{-1}]_{\mathbf{n}_i} = \begin{bmatrix} 0.4142 & 0 & 0 \\ 0 & 2.4143 & 0 \\ 0 & 0 & 1 \end{bmatrix}$$

d) Matrices de « U » et « U<sup>-1</sup> » dans la base « e<sub>i</sub> »:

$$[\mathbf{U}]_{\mathbf{e}_i} = \begin{bmatrix} 0.3827 & 0.9238 & 0 \\ 0.9238 & -0.3827 & 0 \\ 0 & 0 & 1 \end{bmatrix} \begin{bmatrix} 2.414 & 0 & 0 \\ 0 & 0.4142 & 0 \\ 0 & 0 & 1 \end{bmatrix} \begin{bmatrix} 0.3827 & 0.9238 & 0 \\ 0.9238 & -0.3827 & 0 \\ 0 & 0 & 1 \end{bmatrix}$$
$$= \begin{bmatrix} 0.7070 & 0.7070 & 0 \\ 0.7070 & 2.121 & 0 \\ 0 & 0 & 1 \end{bmatrix}$$

## Tenseur de déformation de Cauchy-Green (droit) (Suite)

### Solution:

d) Matrices de «  $\mathbf{U}$  » et «  $\mathbf{U}^{-1}$  » dans la base «  $\mathbf{e}_i$  »:

$$\begin{aligned} [\mathbf{U}^{-1}]_{\mathbf{e}_i} &= \begin{bmatrix} 0.3827 & 0.9238 & 0 \\ 0.9238 & -0.3827 & 0 \\ 0 & 0 & 1 \end{bmatrix} \begin{bmatrix} 0.4142 & 0 & 0 \\ 0 & 2.414 & 0 \\ 0 & 0 & 1 \end{bmatrix} \begin{bmatrix} 0.3827 & 0.9238 & 0 \\ 0.9238 & -0.3827 & 0 \\ 0 & 0 & 1 \end{bmatrix} \\ &= \begin{bmatrix} 2.121 & -0.7070 & 0 \\ -0.7070 & 0.7070 & 0 \\ 0 & 0 & 1 \end{bmatrix} \end{aligned}$$

e) Matrice de «  $\mathbf{R}$  » dans la base «  $\mathbf{e}_i$  »:

$$[\mathbf{R}]_{\mathbf{e}_i} = [\mathbf{F}][\mathbf{U}]^{-1} = \begin{bmatrix} 1 & 2 & 0 \\ 0 & 1 & 0 \\ 0 & 0 & 1 \end{bmatrix} \begin{bmatrix} 2.121 & -0.707 & 0 \\ -0.707 & 0.707 & 0 \\ 0 & 0 & 1 \end{bmatrix} = \begin{bmatrix} 0.707 & 0.707 & 0 \\ -0.707 & 0.707 & 0 \\ 0 & 0 & 1 \end{bmatrix}$$

# 19. Tenseur de déformation Lagrangien

Posons:

$$\mathbf{E}^* = \frac{1}{2}(\mathbf{C} - \mathbf{I}) \quad (4.73)$$

«  $\mathbf{E}^*$  » est appelé tenseur de **déformation finie de Lagrange**.

Ou bien en fonction des composantes de déplacements

$$\mathbf{E}^* = \frac{1}{2}[\nabla \mathbf{u} + (\nabla \mathbf{u})^T] + \frac{1}{2}(\nabla \mathbf{u})^T (\nabla \mathbf{u}) \quad (4.74)$$

Soit:

$$E_{ij}^* = \frac{1}{2} \left( \frac{\partial u_i}{\partial X_j} + \frac{\partial u_j}{\partial X_i} \right) + \frac{1}{2} \frac{\partial u_m}{\partial X_i} \frac{\partial u_m}{\partial X_j} \quad (4.75)$$

D'où

$$E_{11}^* = \frac{\partial u_1}{\partial X_1} + \frac{1}{2} \left[ \left( \frac{\partial u_1}{\partial X_1} \right)^2 + \left( \frac{\partial u_2}{\partial X_1} \right)^2 + \left( \frac{\partial u_3}{\partial X_1} \right)^2 \right]$$

$$E_{12}^* = \frac{1}{2} \left( \frac{\partial u_1}{\partial X_2} + \frac{\partial u_2}{\partial X_1} \right) + \frac{1}{2} \left[ \left( \frac{\partial u_1}{\partial X_1} \right) \left( \frac{\partial u_1}{\partial X_2} \right) + \left( \frac{\partial u_2}{\partial X_1} \right) \left( \frac{\partial u_2}{\partial X_2} \right) + \left( \frac{\partial u_3}{\partial X_1} \right) \left( \frac{\partial u_3}{\partial X_2} \right) \right]$$

Etc...

# 20. Tenseur de déformation de Cauchy-Green (gauche)

Posons:

$$\mathbf{B} = \mathbf{V}^2 = \mathbf{F}\mathbf{F}^T \quad (4.76)$$

«  $\mathbf{C}$  » est appelé tenseur de déformation de Cauchy-Green **gauche** ou bien tenseur de déformation de **Finger**.

Avec comme relation entre «  $\mathbf{B}$  » et «  $\mathbf{C}$  », comme suit:

$$\mathbf{B} = \mathbf{R}\mathbf{C}\mathbf{R}^T \quad \text{et} \quad \mathbf{C} = \mathbf{R}^T\mathbf{B}\mathbf{R} \quad (4.77)$$

En composante de déplacements:

$$\mathbf{B} = \mathbf{F}\mathbf{F}^T = (\mathbf{I} + \nabla\mathbf{u})(\mathbf{I} + \nabla\mathbf{u})^T = \mathbf{I} + [\nabla\mathbf{u} + (\nabla\mathbf{u})^T] + (\nabla\mathbf{u})(\nabla\mathbf{u})^T$$

$$B_{ij} = \delta_{ij} + \left( \frac{\partial u_i}{\partial X_j} + \frac{\partial u_j}{\partial X_i} \right) + \frac{\partial u_i}{\partial X_m} \frac{\partial u_j}{\partial X_m}$$

# 21. Tenseur de déformation Eulerien

En description Eulerienne:

$$\mathbf{e}^* \equiv \frac{1}{2}(\mathbf{I} - \mathbf{B}^{-1}) \quad (4.78)$$

«  $\mathbf{e}^*$  » est appelé tenseur de **déformation finie d'Euler**.

Avec  $\mathbf{B} = \mathbf{F} \mathbf{F}^T$ ,  $\mathbf{B}^{-1}$  est exprimée en fonction de  $\mathbf{F}^{-1}$ , avec:

$$[\mathbf{F}^{-1}] = \begin{bmatrix} \frac{\partial X_1}{\partial x_1} & \frac{\partial X_1}{\partial x_2} & \frac{\partial X_1}{\partial x_3} \\ \frac{\partial X_2}{\partial x_1} & \frac{\partial X_2}{\partial x_2} & \frac{\partial X_2}{\partial x_3} \\ \frac{\partial X_3}{\partial x_1} & \frac{\partial X_3}{\partial x_2} & \frac{\partial X_3}{\partial x_3} \end{bmatrix} \quad (4.79)$$



## Tenseur de déformation Eulerien (suite)

En composantes de déplacements (sachant que  $\mathbf{u} = \mathbf{x} - \mathbf{X}$ ):

$$\mathbf{B}^{-1} = (\mathbf{F}^{-1})^T \mathbf{F}^{-1} = (\mathbf{I} - \nabla_{\mathbf{x}} \mathbf{u})^T (\mathbf{I} - \nabla_{\mathbf{x}} \mathbf{u}) = \mathbf{I} - [\nabla_{\mathbf{x}} \mathbf{u} + (\nabla_{\mathbf{x}} \mathbf{u})^T] + (\nabla_{\mathbf{x}} \mathbf{u})^T (\nabla_{\mathbf{x}} \mathbf{u}) \quad (4.80)$$

$$\mathbf{e}^* = \frac{[\nabla_{\mathbf{x}} \mathbf{u} + (\nabla_{\mathbf{x}} \mathbf{u})^T]}{2} - \frac{(\nabla_{\mathbf{x}} \mathbf{u})^T (\nabla_{\mathbf{x}} \mathbf{u})}{2} \quad (4.81)$$

$$e_{ij}^* = \frac{1}{2} \left( \frac{\partial u_i}{\partial x_j} + \frac{\partial u_j}{\partial x_i} \right) - \frac{1}{2} \frac{\partial u_m}{\partial x_i} \frac{\partial u_m}{\partial x_j} \quad (4.82)$$

Soit:

$$e_{11}^* = \frac{\partial u_1}{\partial x_1} - \frac{1}{2} \left[ \left( \frac{\partial u_1}{\partial x_1} \right)^2 + \left( \frac{\partial u_2}{\partial x_1} \right)^2 + \left( \frac{\partial u_3}{\partial x_1} \right)^2 \right]$$

$$e_{12}^* = \frac{1}{2} \left( \frac{\partial u_1}{\partial x_2} + \frac{\partial u_2}{\partial x_1} \right) - \frac{1}{2} \left[ \left( \frac{\partial u_1}{\partial x_1} \right) \left( \frac{\partial u_1}{\partial x_2} \right) + \left( \frac{\partial u_2}{\partial x_1} \right) \left( \frac{\partial u_2}{\partial x_2} \right) + \left( \frac{\partial u_3}{\partial x_1} \right) \left( \frac{\partial u_3}{\partial x_2} \right) \right]$$

Etc...

# 22. Changements de surface et de volume dus aux déformations

## 22.1 Surface

Soient 02 éléments matériels  $d\mathbf{X}^{(1)}=dS_1\mathbf{e}_1$  et  $d\mathbf{X}^{(2)}=dS_2\mathbf{e}_2$  de « X ».

La surface rectangulaire formée par  $d\mathbf{X}^{(1)}$  et  $d\mathbf{X}^{(2)}$  au temps de référence «  $t_0$  » est:

$$d\mathbf{A}_o = d\mathbf{X}^{(1)} \times d\mathbf{X}^{(2)} = dS_1 dS_2 \mathbf{e}_3 = dA_o \mathbf{e}_3 \quad (4.83)$$

Avec  $dA_o$ : magnitude de la surface non déformée.

$\mathbf{e}_3$ : vecteur normal à la surface.

Au temps « t »,  $d\mathbf{X}^{(1)}$  devient  $d\mathbf{x}^{(1)}=F d\mathbf{X}^{(1)}$  et  $d\mathbf{X}^{(2)}$  devient  $d\mathbf{x}^{(2)}=F d\mathbf{X}^{(2)}$ .

La surface au temps « t » sera:

$$d\mathbf{A} = F d\mathbf{X}^{(1)} \times F d\mathbf{X}^{(2)} = dS_1 dS_2 F\mathbf{e}_1 \times F\mathbf{e}_2 = dA_o F\mathbf{e}_1 \times F\mathbf{e}_2 \quad (4.84)$$

L'orientation de la surface déformée est normale à  $F\mathbf{e}_1$  et  $F\mathbf{e}_2$ . Si cette direction est notée par le vecteur unitaire « n », alors:

$$d\mathbf{A} = dA \mathbf{n} \quad (4.75)$$

## Changements de surface et de volume dus aux déformations (suite) **Surface**

alors

$$dA \mathbf{n} = dA_o (\mathbf{F}e_1 \times \mathbf{F}e_2) \quad (4.85)$$

Il est claire que

$$\mathbf{F}e_1 \cdot dA\mathbf{n} = \mathbf{F}e_2 \cdot dA\mathbf{n} = 0 \quad \text{et} \quad \mathbf{F}e_3 \cdot dA\mathbf{n} = dA_o (\mathbf{F}e_3 \cdot \mathbf{F}e_1 \times \mathbf{F}e_2) \quad (4.86)$$

Or, pour n'importe quels vecteurs, a, b et c, on a: **a.bxc = det** dont les lignes sont les composantes de a, b et c. d'où

$$\mathbf{F}e_3 \cdot \mathbf{F}e_1 \times \mathbf{F}e_2 = \det \mathbf{F}$$

En remplaçant, on a:

$$\mathbf{F}e_3 \cdot dA\mathbf{n} = dA_o \det \mathbf{F} \quad (4.87)$$

En passant par la transposée, les équations (4.86) deviennent:

$$\mathbf{e}_1 \cdot \mathbf{F}^T \mathbf{n} = \mathbf{e}_2 \cdot \mathbf{F}^T \mathbf{n} = 0 \quad \text{et} \quad \mathbf{e}_3 \cdot \mathbf{F}^T \mathbf{n} = \left( \frac{dA_o}{dA} \right) \det \mathbf{F} \quad (4.88)$$

D'où  $\mathbf{F}^T \mathbf{n}$  est dans la direction «  $\mathbf{e}_3$  »

$$\mathbf{F}^T \mathbf{n} = \frac{dA_o}{dA} (\det \mathbf{F}) \mathbf{e}_3 \quad (4.89)$$

Finalemment:

## Changements de surface et de volume dus aux déformations (suite) **Surface**

finalement

$$dA \mathbf{n} = dA_o (\det \mathbf{F}) (\mathbf{F}^{-1})^T \mathbf{e}_3 \quad (4.90)$$

Montre que la surface déformée est normale à la direction de  $(\mathbf{F}^{-1})^T \mathbf{e}_3$  et de magnitude:

$$dA = dA_o (\det \mathbf{F}) |(\mathbf{F}^{-1})^T \mathbf{e}_3| \quad (4.91)$$

Si on avait choisi une autre base cartésiennes de vecteurs autre que  $\mathbf{e}_1$ ,  $\mathbf{e}_2$  et  $\mathbf{e}_3$ , la formule reste la même sauf qu'il faut remplacer le vecteur normal à la surface non déformée «  $\mathbf{e}_3$  » par «  $\mathbf{n}_o$  ». Soit en général:

$$dA \mathbf{n} = dA_o (\det \mathbf{F}) (\mathbf{F}^{-1})^T \mathbf{n}_o \quad (4.92)$$

## Changements de surface et de volume dus aux déformations (suite)

### 22.2 Volume

Soient 03 éléments matériels  $d\mathbf{X}^{(1)}=dS_1\mathbf{e}_1$  ,  $d\mathbf{X}^{(2)}=dS_2\mathbf{e}_2$  et  $d\mathbf{X}^{(3)}=dS_3\mathbf{e}_3$  de « X »

Le volume rectangulaire formé par  $d\mathbf{X}^{(1)}$  ,  $d\mathbf{X}^{(2)}$  et  $d\mathbf{X}^{(3)}$  au temps de référence «  $t_0$  » est:

$$dV_o = dS_1 dS_2 dS_3 \quad (4.93)$$

Dues aux déformations, ce volume sera transformé au temps « t » à:

$$\begin{aligned} dV &= \mathbf{F}d\mathbf{X}^{(1)} \cdot \mathbf{F}d\mathbf{X}^{(2)} \times \mathbf{F}d\mathbf{X}^{(3)} = dS_1 dS_2 dS_3 (\mathbf{F}\mathbf{e}_1 \cdot \mathbf{F}\mathbf{e}_2 \times \mathbf{F}\mathbf{e}_3) \\ &= dV_o (\mathbf{F}\mathbf{e}_1 \cdot \mathbf{F}\mathbf{e}_2 \times \mathbf{F}\mathbf{e}_3) \end{aligned} \quad (4.94)$$

Ou bien

$$dV = (\det \mathbf{F})dV_o \quad (4.95)$$

Ou bien

$$dV = \sqrt{\det \mathbf{C}} dV_o = \sqrt{\det \mathbf{B}} dV_o \quad (4.96)$$

puisque

$$\mathbf{C} = \mathbf{F}^T \mathbf{F} \quad \mathbf{B} = \mathbf{F} \mathbf{F}^T$$

$$\det \mathbf{C} = \det \mathbf{B} = (\det \mathbf{F})^2$$

**Merci. Fin du chapitre 4**

# *Mécanique des Milieux Continus*

**Abdellatif MEGNOUNIF**

**Semaine Prochaine**

**Chap. 5**

**Notions fondamentales  
de la MMC**